



ぼうグラフと表5

● ぼうグラフの
1めもりの大きさ

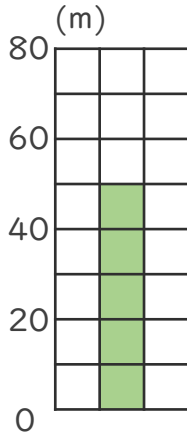


日にち： 月 日

名まえ _____

・ 次のぼうグラフで、1めもりが表している大きさと、
ぼうが表している大きさをもとめましょう。

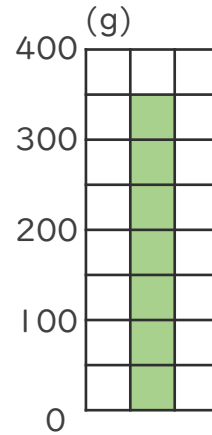
①



1めもり [10m]

グラフ [50m]

③



1めもり [50g]

グラフ [350g]

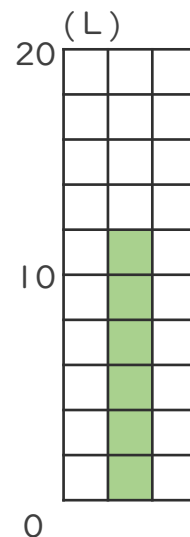
②



1めもり [5cm]

グラフ [15cm]

④



1めもり [2L]

グラフ [12L]

