



長いものの長さの
はかり方と表し方 2

● まきじゃくへの書きこみ



日にち： 月 日

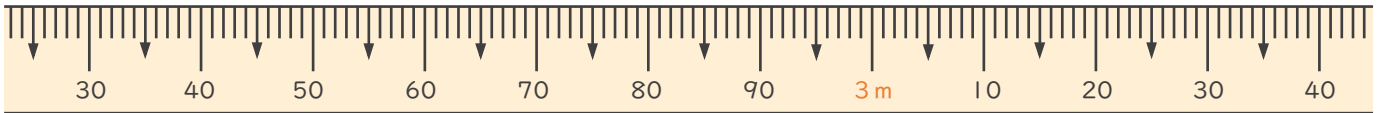
名まえ _____

1 次のまきじゃくで、①～③の長さ^{なが}を表す^{あらわ}メモりに ↓ をかきましょう。

① 2 m 4 5 c m

② 2 m 5 5 c m

③ 3 m 5 c m

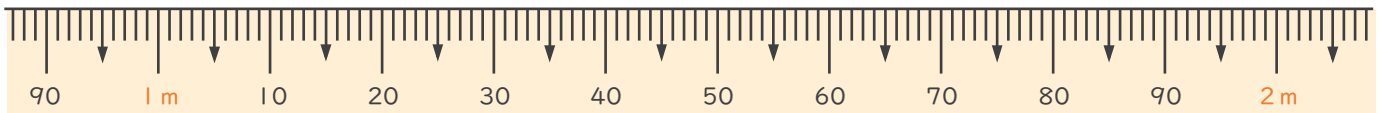


2 次のまきじゃくで、①～③の長さ^{なが}を表す^{あらわ}メモりに ↓ をかきましょう。

① 1 m 9 c m

② 1 m 5 7 c m

③ 1 m 8 3 c m





長いものの長さの はかり方と表し方 2

● まきじゃくへの書きこみ



日にち： 月 日

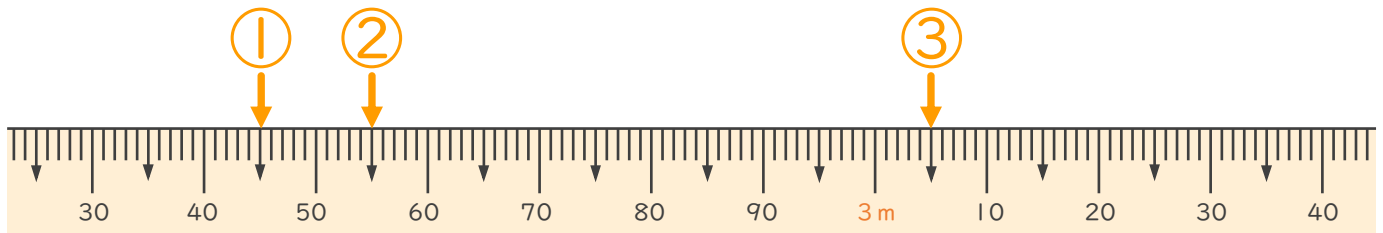
名まえ _____

1 次のまきじゃくで、①～③の長さ^{なが}を表す^{あらわ}メモりに ↓ をかきましょう。

① 2 m 45 cm

② 2 m 55 cm

③ 3 m 5 cm



2 次のまきじゃくで、①～③の長さ^{なが}を表す^{あらわ}メモりに ↓ をかきましょう。

① 1 m 9 cm

② 1 m 57 cm

③ 1 m 83 cm

