



円と球 7

コンパスで長さ比べ

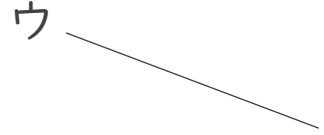



日にち： 月 日

名まえ _____

・ 次の直線の長さをくらべ、長い順に答えましょう。

①



答え： → →

②



答え： → →





円と球 7

コンパスで長さ比べ

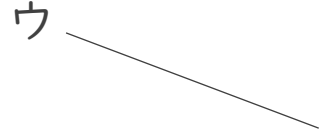



日にち： 月 日

名まえ _____

・ 次の直線の長さをくらべ、長い順に答えましょう。

①



答え： ウ → イ → ア

②



答え： ア → ウ → イ