



# 円と球 7

コンパスで長さ比べ

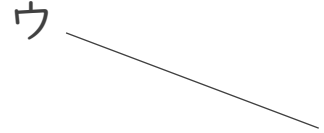



日にち：            月            日

名まえ \_\_\_\_\_

・ 次の直線の長さをくらべ、長いじゆんに答えましょう。

①



答え：            →            →  
\_\_\_\_\_

②



答え：            →            →  
\_\_\_\_\_



# 円と球 7

コンパスで長さ比べ

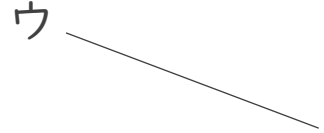



日にち：            月            日

名まえ \_\_\_\_\_

・ 次の直線の長さをくらべ、長いじゆんに答えましょう。

①



答え： ウ → イ → ア

②



答え： ア → ウ → イ