



三角形と角 9

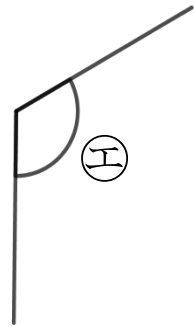
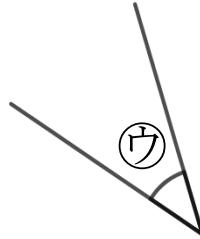
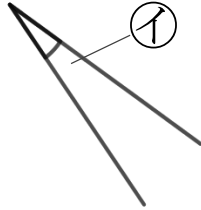
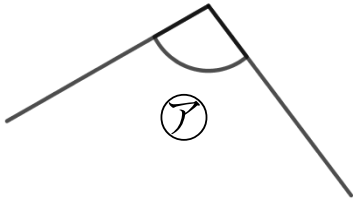
◎ 三角定規の角

7

日にち： 月 日

名まえ _____

1 次の図で、次の角を見つけて、㊦～㊨で答えましょう。



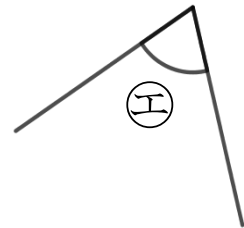
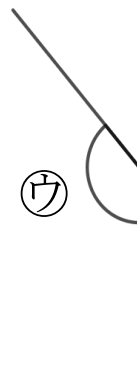
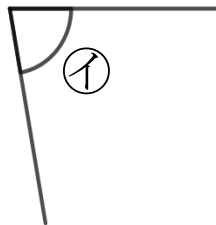
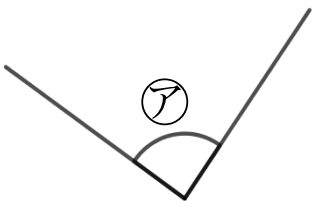
① いちばん小さい角

答え： _____

② いちばん大きい角

答え： _____

2 次の図で、次の角を見つけて、㊦～㊨で答えましょう。



① いちばん小さい角

答え： _____

② いちばん大きい角

答え： _____



三角形と角 9

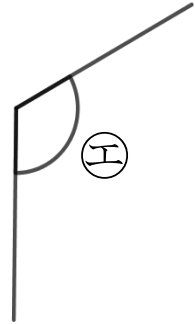
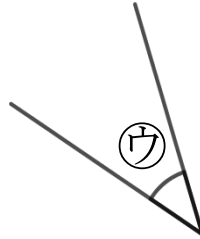
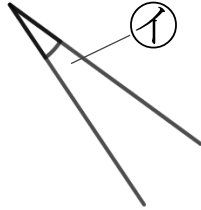
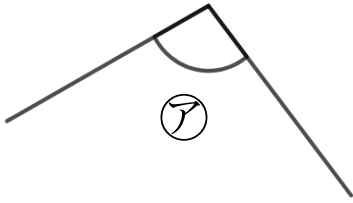
◎ 三角定規の角



日にち： 月 日

名まえ _____

1 次の図で、次の角を見つけて、㉠～㉤で答えましょう。



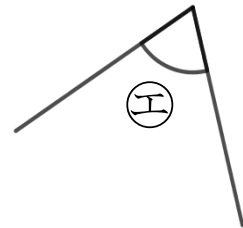
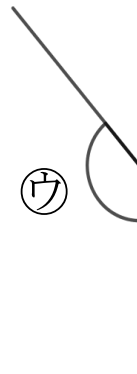
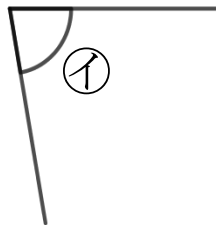
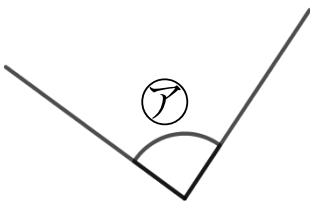
① いちばん小さい角

答え： イ

② いちばん大きい角

答え： エ

2 次の図で、次の角を見つけて、㉠～㉤で答えましょう。



① いちばん小さい角

答え： エ

② いちばん大きい角

答え： ウ