



かけ算 3


九九表のあなをうめよう



日にち： 月 日

名まえ _____

下の①～④は、かけ算九九表の一部です。


 でかかれている数をいみましょう。

①

	2	4	6	
	3	6	9	
	4		12	


答え： _____

③

	21	24	27	
	28		36	
	35	40	45	


答え： _____

②

	15	20	25	
	18	24	30	
	21		35	

答え： _____

④

	42	49	56	
	48	56	64	
	54	63		

答え： _____



かけ算 3


九九表のあなをうめよう




日にち： 月 日

名まえ _____

下の①～④は、かけ算九九表の一部です。


 でかかれている数をいみましょう。

①

	2	4	6	
	3	6	9	
	4		12	


答え： 8

③

	21	24	27	
	28		36	
	35	40	45	


答え： 32

②

	15	20	25	
	18	24	30	
	21		35	

答え： 28

④

	42	49	56	
	48	56	64	
	54	63		

答え： 72

