



倍の計算 2

◎ 何倍かをもとめよう

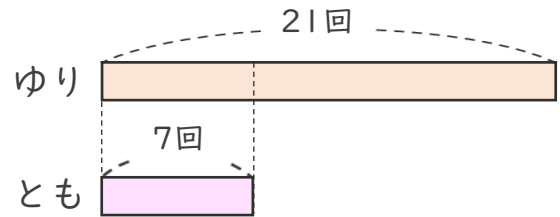


日にち： 月 日

名まえ _____

- 1 大なわとびでゆりさんのはんは21回、
ともさんのはんは7回とびました。
ゆりさんのはんは、ともさんのはんの何倍とびましたか。

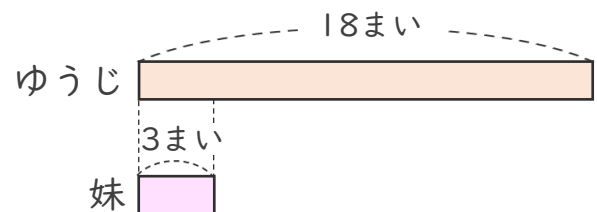
式：



答え： _____

- 2 ゆうじさんは、色紙を18まい持っています。
ゆうじさんの妹は、3まい持っています。
ゆうじさんは妹の何倍持っていますか。

式：



答え： _____



倍の計算 2

◎ 何倍かをもとめよう

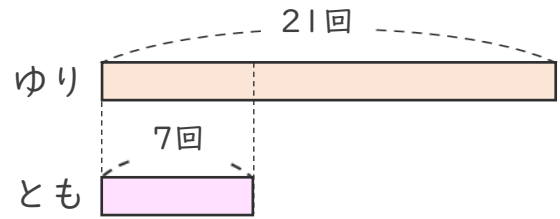


日にち： 月 日

名まえ _____

- 1 大なわとびでゆりさんのはんは21回、
ともさんのはんは7回とびました。
ゆりさんのはんは、ともさんのはんの何倍とびましたか。

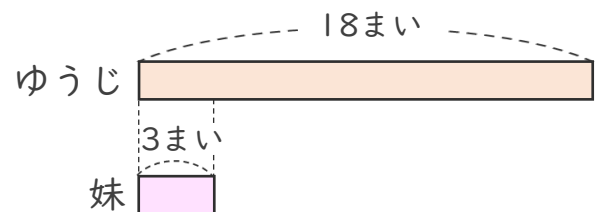
式： $21 \div 7 = 3$



答え： 3 倍

- 2 ゆうじさんは、色紙を18まい持っています。
ゆうじさんの妹は、3まい持っています。
ゆうじさんは妹の何倍持っていますか。

式： $18 \div 3 = 6$



答え： 6 倍