



## 倍の計算 2

◎ 何倍かをもとめよう

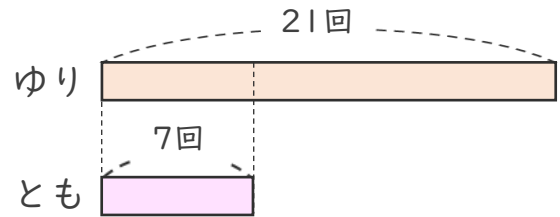


日にち：            月            日

名まえ \_\_\_\_\_

- 1 大なわとびでゆりさんのはんは21回、  
ともさんのはんは7回とびました。  
ゆりさんのはんは、ともさんのはんの何倍とびましたか。

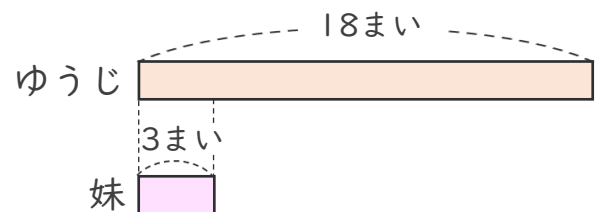
式：



答え： \_\_\_\_\_

- 2 ゆうじさんは、色紙を18まい持っています。  
ゆうじさんの妹は、3まい持っています。  
ゆうじさんは妹の何倍持っていますか。

式：



答え： \_\_\_\_\_



## 倍の計算 2

◎ 何倍かをもとめよう

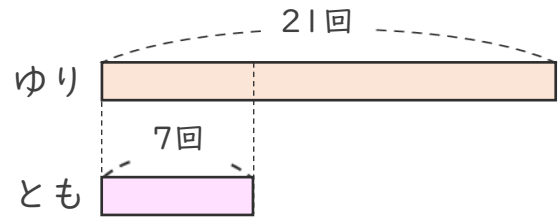


日にち：            月            日

名まえ \_\_\_\_\_

- 1 大なわとびでゆりさんのはんは21回、  
ともさんのはんは7回とびました。  
ゆりさんのはんは、ともさんのはんの何倍とびましたか。

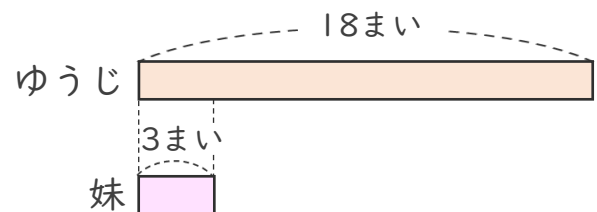
式： $21 \div 7 = 3$



答え：            3            倍

- 2 ゆうじさんは、色紙を18まい持っています。  
ゆうじさんの妹は、3まい持っています。  
ゆうじさんは妹の何倍持っていますか。

式： $18 \div 3 = 6$



答え：            6            倍