



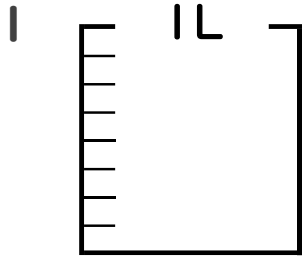
分数 5

● 分数の水のかさの色ぬり



日にち： 月 日

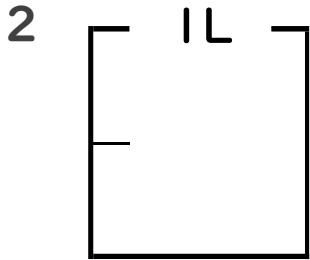
名まえ _____



① $\frac{1}{8}$ Lの 2 分だけ色をぬりましょう。

② 色をぬったところのかさは何Lですか。

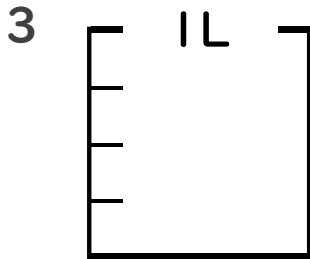
_____ L



① $\frac{1}{2}$ Lの 1 分だけ色をぬりましょう。

② 色をぬったところのかさは何Lですか。

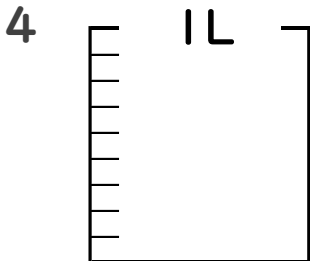
_____ L



① $\frac{1}{4}$ Lの 3 分だけ色をぬりましょう。

② 色をぬったところのかさは何Lですか。

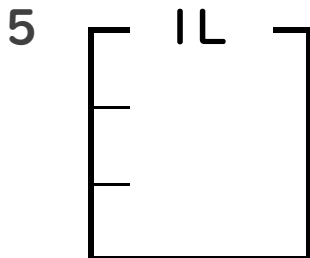
_____ L



① $\frac{1}{9}$ Lの 7 分だけ色をぬりましょう。

② 色をぬったところのかさは何Lですか。

_____ L



① $\frac{1}{3}$ Lの 1 分だけ色をぬりましょう。

② 色をぬったところのかさは何Lですか。

_____ L





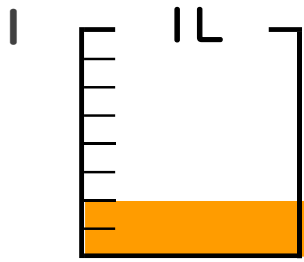
分数 5

● 分数の水のかさの色ぬり



日にち： 月 日

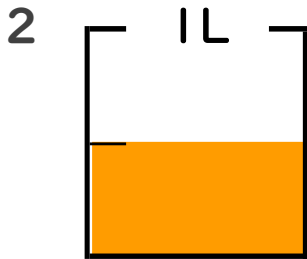
名まえ _____



① $\frac{1}{8}$ Lの 2 ぶんだけ色をぬりましょう。

② 色をぬったところのかさは何Lですか。

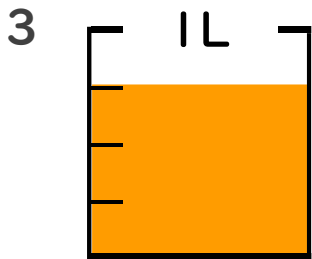
$\frac{2}{8}$ L



① $\frac{1}{2}$ Lの 1 ぶんだけ色をぬりましょう。

② 色をぬったところのかさは何Lですか。

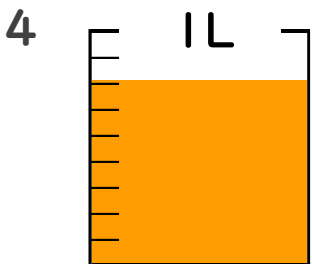
$\frac{1}{2}$ L



① $\frac{1}{4}$ Lの 3 ぶんだけ色をぬりましょう。

② 色をぬったところのかさは何Lですか。

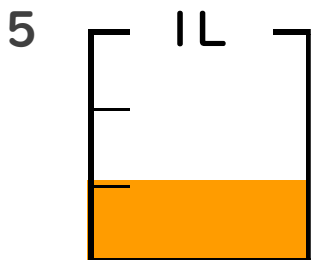
$\frac{3}{4}$ L



① $\frac{1}{9}$ Lの 7 ぶんだけ色をぬりましょう。

② 色をぬったところのかさは何Lですか。

$\frac{7}{9}$ L



① $\frac{1}{3}$ Lの 1 ぶんだけ色をぬりましょう。

② 色をぬったところのかさは何Lですか。

$\frac{1}{3}$ L

