



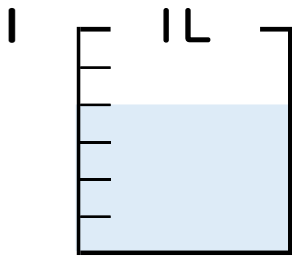
分数 4

● 分数の水のかさの読み取り



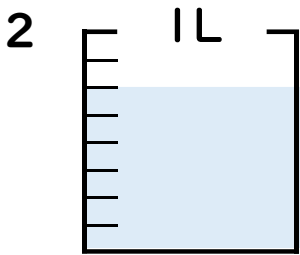
日にち： 月 日

名まえ _____



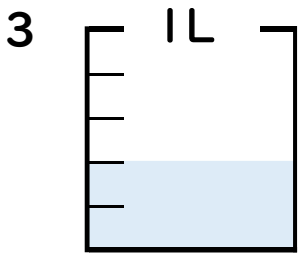
① 図の水のかさは1メモリの何こ分ですか？ _____ 半分

② 水のかさは、何^{リットル}Lですか？ _____ L



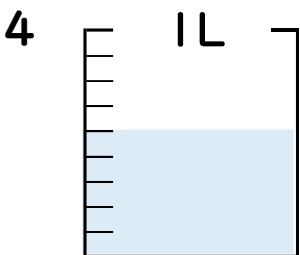
① 図の水のかさは1メモリの何こ分ですか？ _____ 半分

② 水のかさは、何^{リットル}Lですか？ _____ L



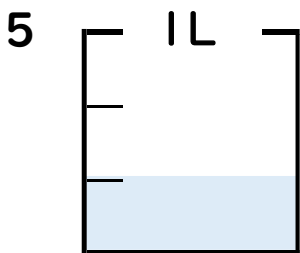
① 図の水のかさは1メモリの何こ分ですか？ _____ 半分

② 水のかさは、何^{リットル}Lですか？ _____ L



① 図の水のかさは1メモリの何こ分ですか？ _____ 半分

② 水のかさは、何^{リットル}Lですか？ _____ L



① 図の水のかさは1メモリの何こ分ですか？ _____ 半分

② 水のかさは、何^{リットル}Lですか？ _____ L



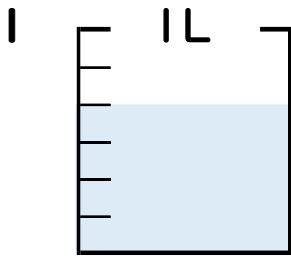
分数 4

● 分数の水のかさの読み取り

7

日にち： 月 日

名まえ _____

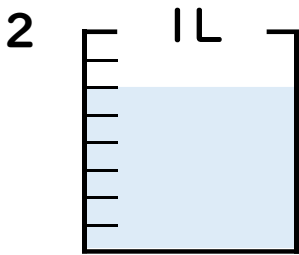


① 図の水のかさは1メモリの何こ分ですか？

4 共分

② 水のかさは、何^{リットル}Lですか？

$\frac{4}{6}$ L

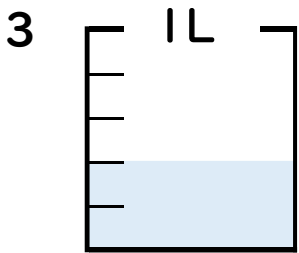


① 図の水のかさは1メモリの何こ分ですか？

6 共分

② 水のかさは、何^{リットル}Lですか？

$\frac{6}{8}$ L

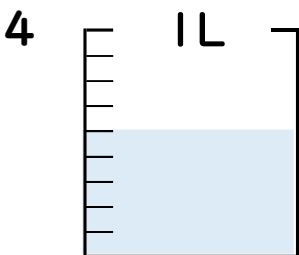


① 図の水のかさは1メモリの何こ分ですか？

2 共分

② 水のかさは、何^{リットル}Lですか？

$\frac{2}{5}$ L

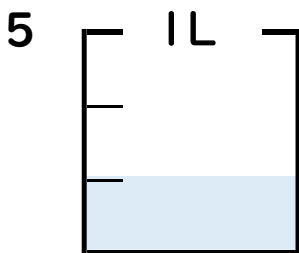


① 図の水のかさは1メモリの何こ分ですか？

5 共分

② 水のかさは、何^{リットル}Lですか？

$\frac{5}{9}$ L



① 図の水のかさは1メモリの何こ分ですか？

1 共分

② 水のかさは、何^{リットル}Lですか？

$\frac{1}{3}$ L

