



分数 2

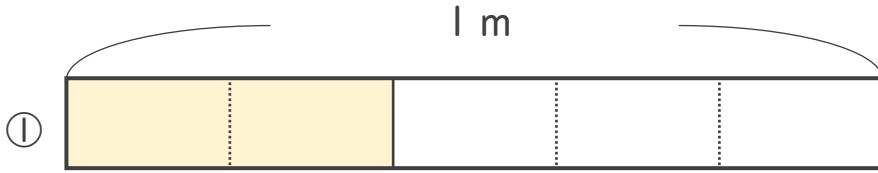
● 分数の長さの読み取り



日にち： 月 日

名まえ _____


いろ
・色をぬったところのながさは、何mでしょう。
なが
なん



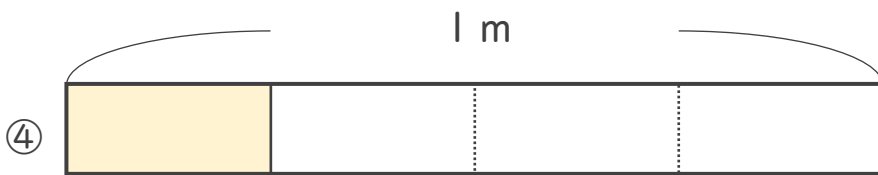
こたえ： $\frac{2}{5}$ m



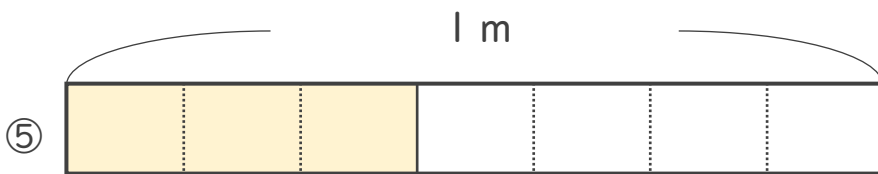
こたえ： $\frac{3}{5}$ m



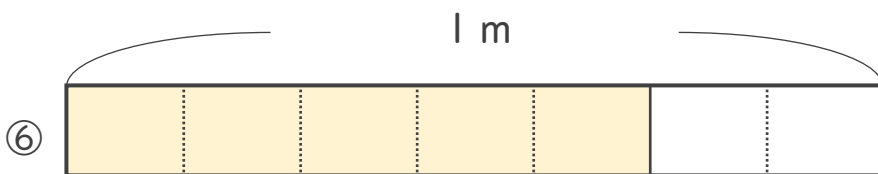
こたえ： $\frac{1}{8}$ m



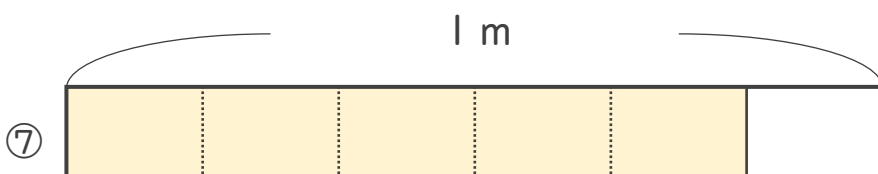
こたえ： $\frac{1}{4}$ m



こたえ： $\frac{3}{7}$ m



こたえ： $\frac{5}{7}$ m



こたえ： $\frac{5}{6}$ m

