

小数の意味と表し方7

● 小数で表す1cmより短い長さ

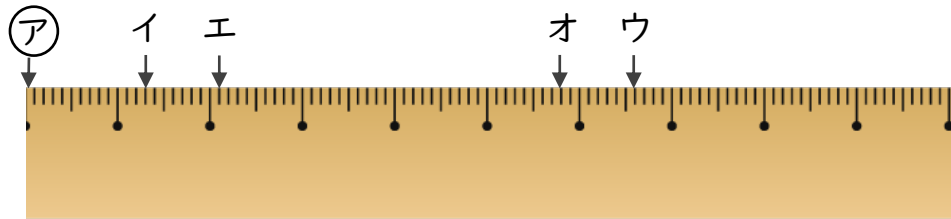


日にち： 月 日

名まえ _____

・ ㊦からイ、ウ、エ、オまでの長さは、それぞれ何cmですか。
(うすい字はしっかりなぞりましょう。)

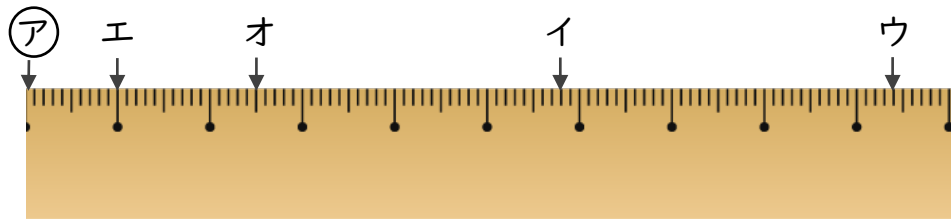
①



答え ㊦からイ 1.3 cm ㊦からウ

 ㊦からエ ㊦からオ

②



答え ㊦からイ ㊦からウ

 ㊦からエ ㊦からオ



小数の意味と表し方7

● 小数で表す1cmより短い長さ

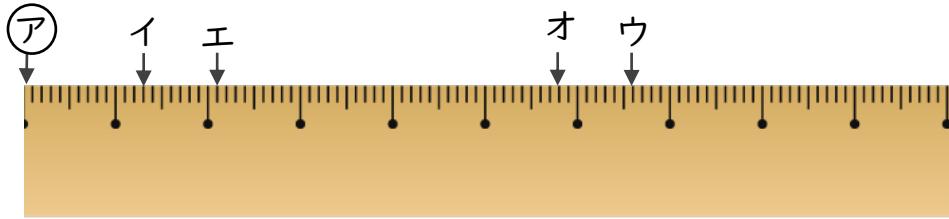


日にち： 月 日

名まえ

・ ㊦からイ、ウ、エ、オまでの長さは、それぞれ何cmですか。
(うすい字はしっかりなぞりましょう。)

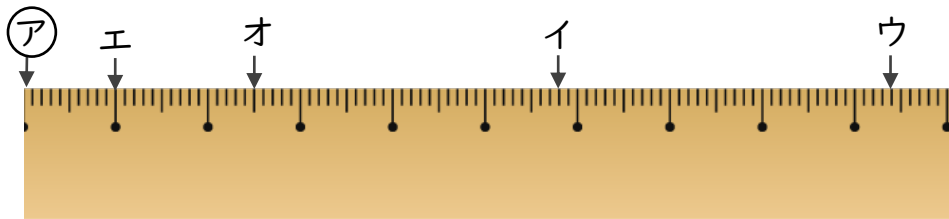
①



答え ㊦からイ 1.3 cm ㊦からウ 6.6 cm

 ㊦からエ 2.1 cm ㊦からオ 5.8 cm

②



答え ㊦からイ 5.8 cm ㊦からウ 9.4 cm

 ㊦からエ 1 cm ㊦からオ 2.5 cm
