



小数の意味と表し方II

● 小数の位置を数直線へ書きこむ



日にち： 月 日

名まえ _____

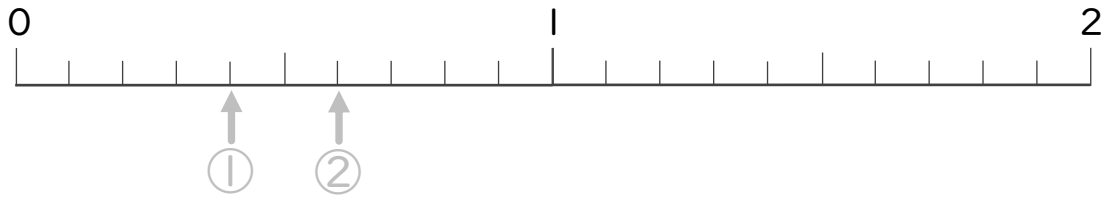
・ 次の数を表すめもりに ↑ を書きましょう。
(うすい字はなぞりましょう。)

① 0.4

② 0.6

③ 1.4

④ 1.9



⑤ 1.8

⑥ 0.3

⑦ 1.6

⑧ 0.9



⑨ 1.7

⑩ 0.8

⑪ 0.2

⑫ 0.5





小数の意味と表し方II

● 小数の位置を数直線へ書きこむ

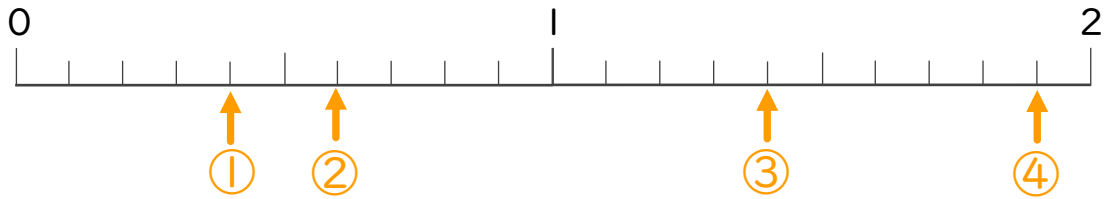


日にち： 月 日

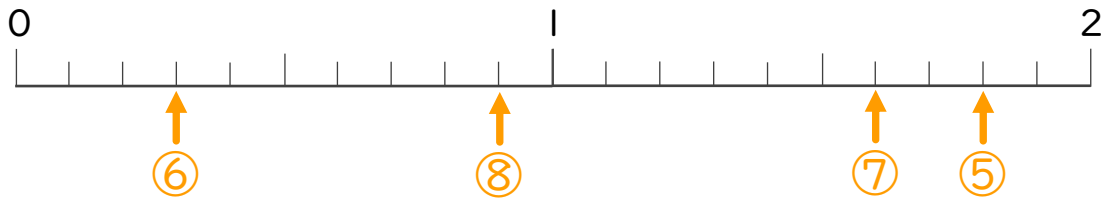
名まえ _____

・ 次の数を表すめもりに ↑ を書きましょう。
(うすい字はなぞりましょう。)

- ① 0.4
- ② 0.6
- ③ 1.4
- ④ 1.9



- ⑤ 1.8
- ⑥ 0.3
- ⑦ 1.6
- ⑧ 0.9



- ⑨ 1.7
- ⑩ 0.8
- ⑪ 0.2
- ⑫ 0.5

