



たし算と
ひき算の筆算 22

● 式をつくろう
(大きな数のたし算)



日にち： 月 日

名まえ _____

- ・ から までの10まいのカードを8まい使って、
答えが6000になるたし算の式をつくりましょう。

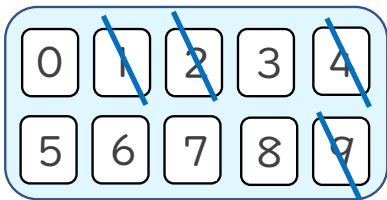


+ = 6000

☆ 次の に数字を入れましょう。(うすい字はなぞりましょう。)

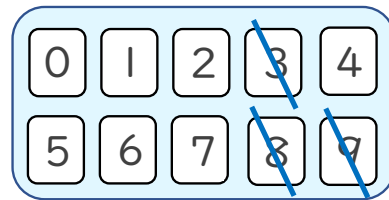
①

	2	1	9	4
+				
	6	0	0	0



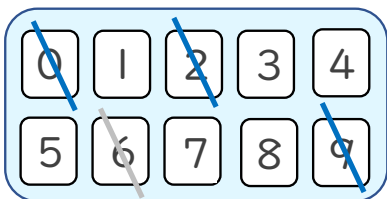
②

		9	3	8
+				
	6	0	0	0



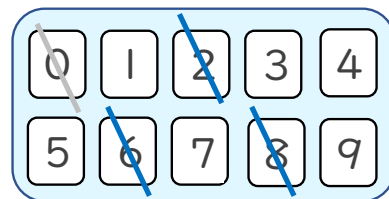
③

		6	0	2
+			9	
	6	0	0	0



④

			0	6
+	2	8		
	6	0	0	0





たし算と
ひき算の筆算 22

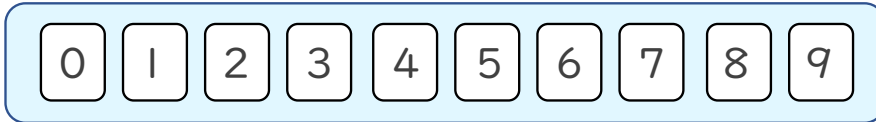
● 式をつくろう
(大きな数のたし算)



日にち： 月 日

名まえ _____

- ・ $\boxed{0}$ から $\boxed{9}$ までの10まいのカードを8まい使って、
答えが6000になるたし算の式をつくりましょう。

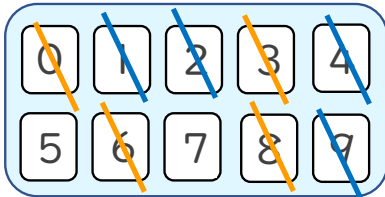


$$\square\square\square\square + \square\square\square\square = 6000$$

☆ 次の \square に数字を入れましょう。(うすい字はなぞりましょう。)

①

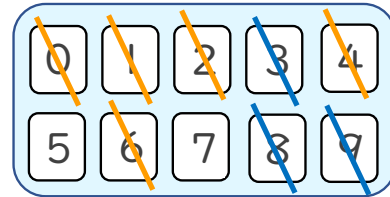
	2	1	9	4
+	3	8	0	6
	6	0	0	0



(例)

②

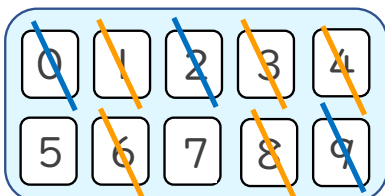
	4	9	3	8
+	1	0	6	2
	6	0	0	0



(例)

③

	1	6	0	2
+	4	3	9	8
	6	0	0	0



④

	3	1	0	6
+	2	8	9	4
	6	0	0	0

