



□を使った式 10

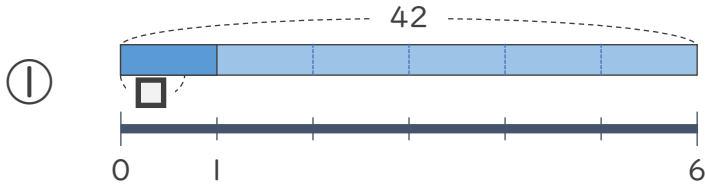
● 数 ÷ □ の
□ をもとめる計算



日にち： 月 日

名まえ _____

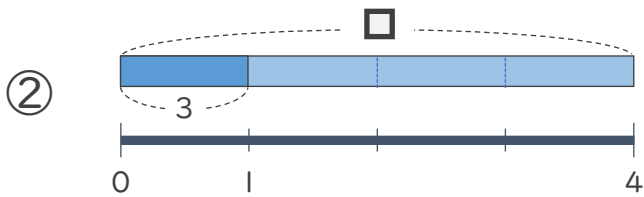
・ □ にあてはまる数をもとめましょう。



$$42 \div \square = 6$$

$$\square =$$

$$\square =$$



$$\square \div 4 = 3$$

$$\square =$$

$$\square =$$



□を使った式 10

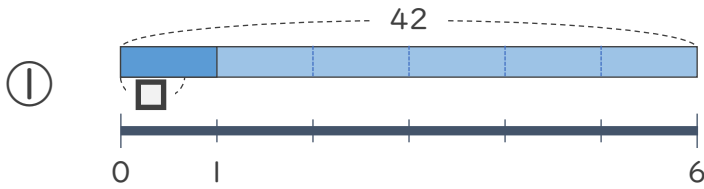
● 数 ÷ □ の
□ をもとめる計算



日にち： 月 日

名まえ _____

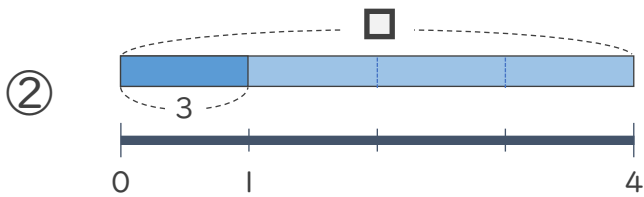
・ □ にあてはまる数をもとめましょう。



$$42 \div \square = 6$$

$$\square = 42 \div 6$$

$$\square = 7$$



$$\square \div 4 = 3$$

$$\square = 3 \times 4$$

$$\square = 12$$

