

小数の意味と表し方 10

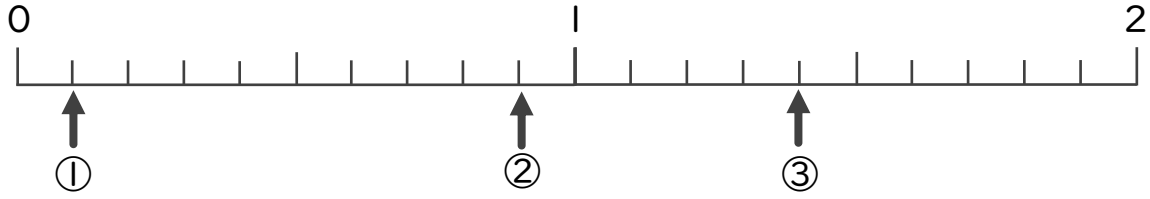
数直線の小数の読みとり



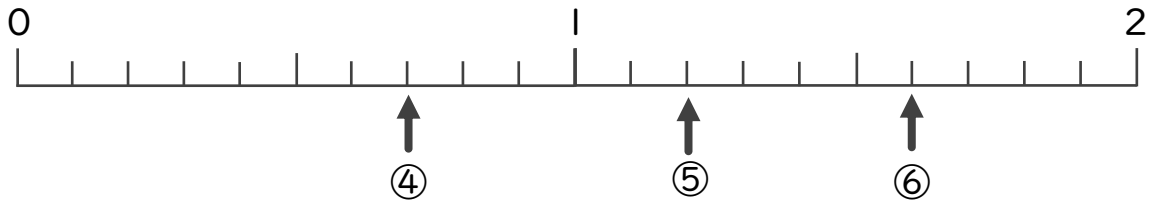
日にち： 月 日

名まえ _____

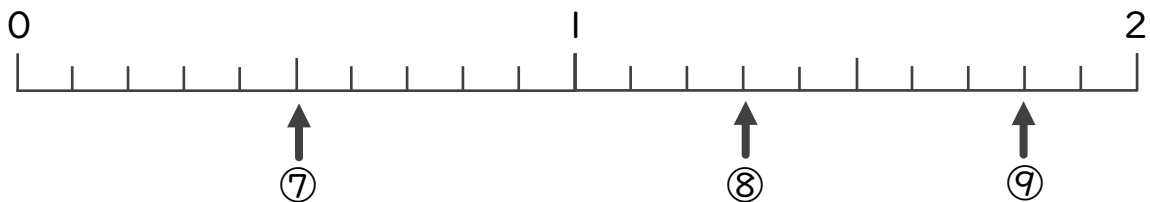
・下の数直線を見て ↑ のめもりが表す数を書きましょう。
(うすい字はしっかりなぞりましょう。)



① 0.1 ② 0.9 ③ 1.4



④ 0.7 ⑤ 1.2 ⑥ 1.6



⑦ 0.5 ⑧ 1.3 ⑨ 1.8