



時こくと時間の
もとめかた 2

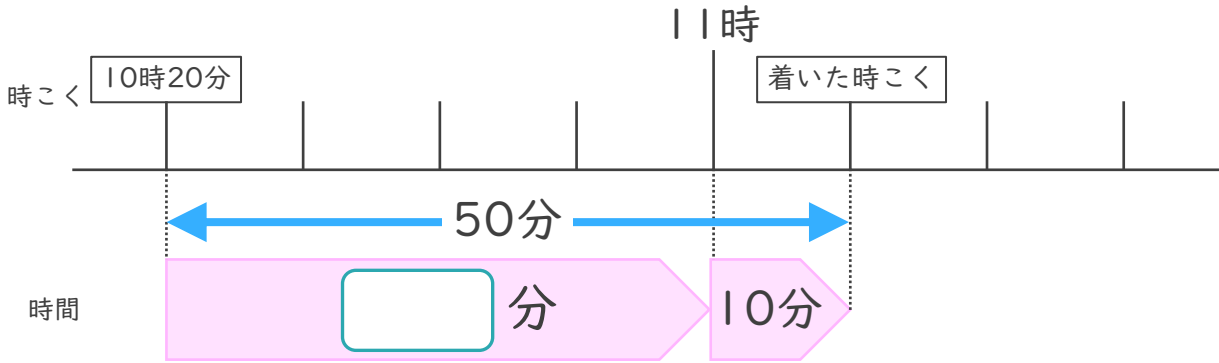
● 時こくをもとめる (数直線)



日にち： 月 日

名まえ _____

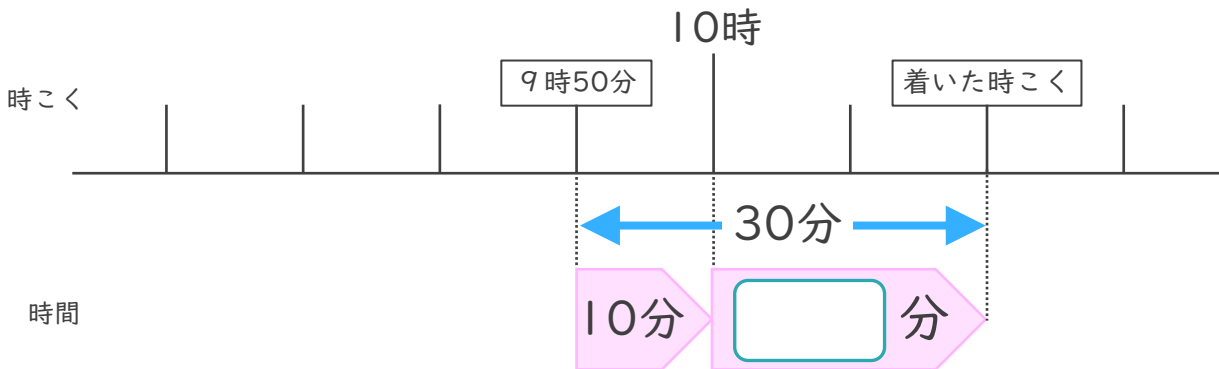
1 家を午前10時20分に出て、50分歩くと公民館に着きました。



- ① にあてはまる数を書きましょう。
- ② 公民館に着いた時こくは何時何分ですか。

答え ()

2 家を午前9時50分に出て、30分歩くと病院に着きました。



- ① にあてはまる数を書きましょう。
- ② 病院に着いた時こくは何時何分ですか。

答え ()



時こくと時間の もとめかた 2

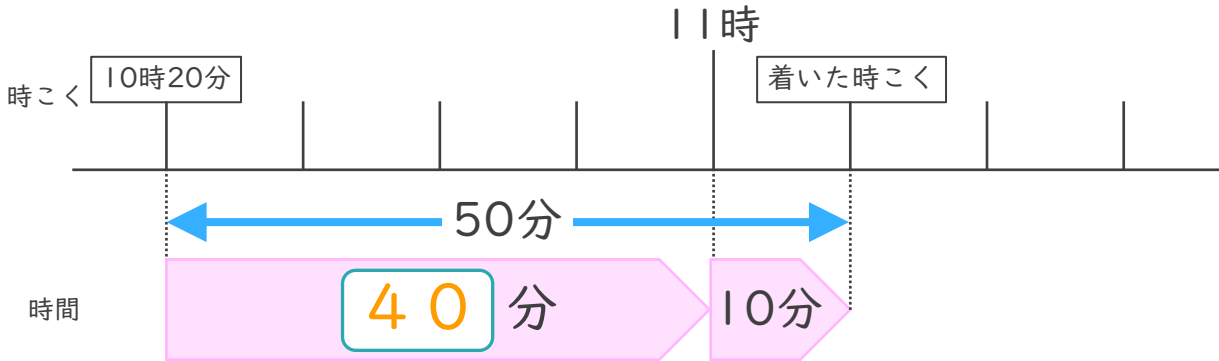
● 時こくをもとめる (数直線)



日にち： 月 日

名まえ _____

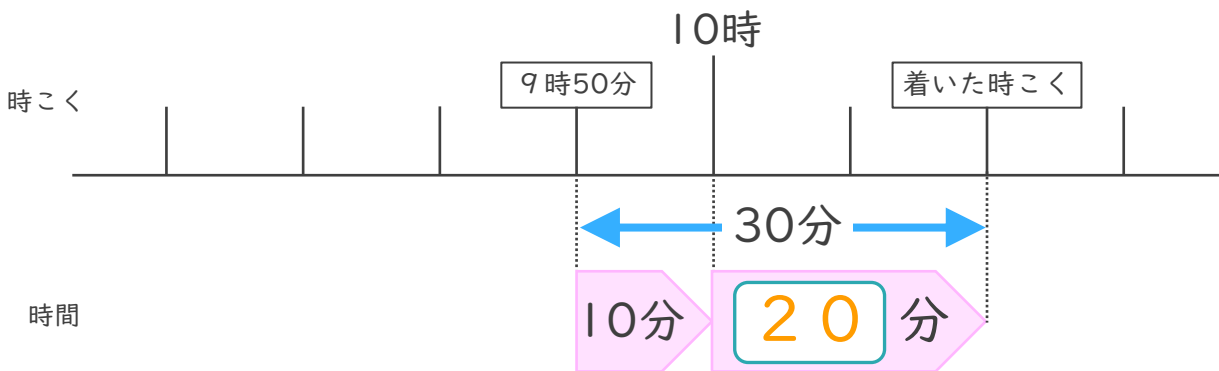
1 家を午前10時20分に出て、50分歩くと公民館に着きました。



- ① にあてはまる数を書きましょう。
- ② 公民館に着いた時こくは何時何分ですか。

答え (午前 11 時 10 分)

2 家を午前9時50分に出て、30分歩くと病院に着きました。



- ① にあてはまる数を書きましょう。
- ② 病院に着いた時こくは何時何分ですか。

答え (午前 10 時 20 分)

