

重さのたんいと はかりかた 2

7

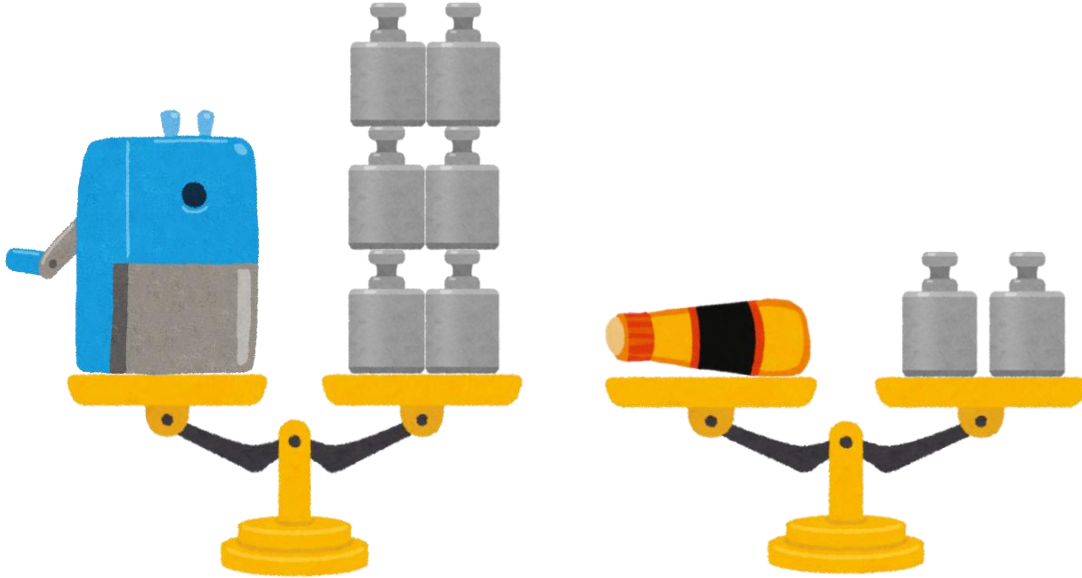
● 重り何こ分？

日にち： 月 日

名まえ _____


・いろいろなものの重さを、おもりを使って表します。

① えんぴつけずりとのはりは、どちらの方がおもり何こ分重いといえますか。




答え：

② ペンチとはさみは、どちらの方がおもり何こ分重いといえますか。



答え：





重さのたんいと はかりかた 2

7

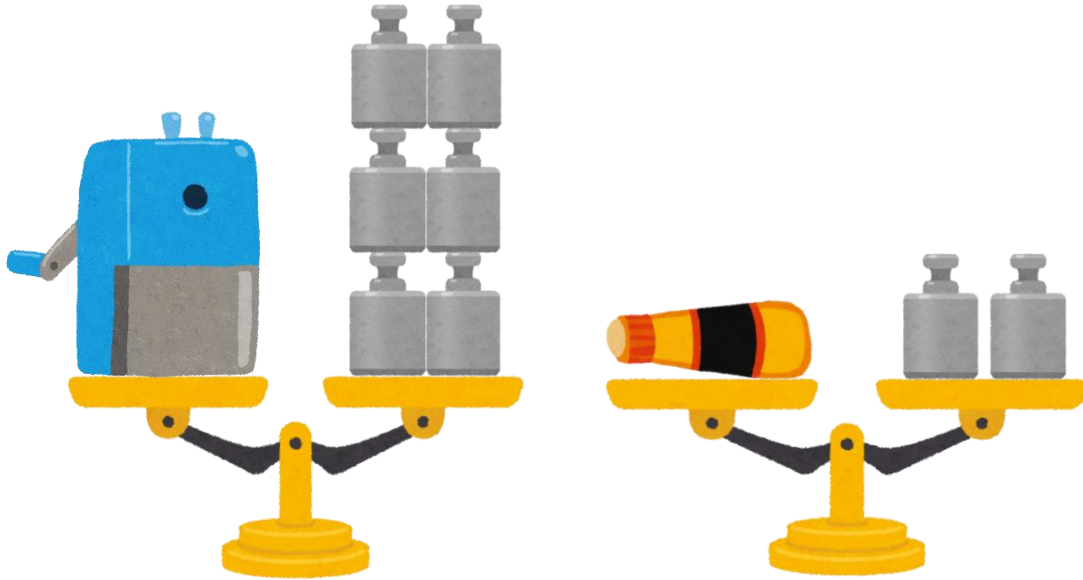
● 重り何こ分？

日にち： 月 日

名まえ _____


・いろいろなものの重さを、おもりを使って表します。

① えんぴつけずりとのはりは、どちらの方がおもり何こ分重いいえますか。



答え：えんぴつけずりの方が4こ分重い

② ペンチとはさみは、どちらの方がおもり何こ分重いいえますか。



答え：ペンチの方が2こ分重い

