



長いものの長さの はかり方と表し方 3

● 長さをはかる道具



日にち： 月 日

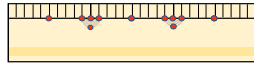
名まえ _____

・ 次の長さをはかります。①、②、③ のどれを使いますか。

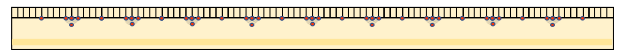
① まきじゃく



② 30cmものさし



③ 1mものさし



① えんぴつの長さ

答え ()

② 電柱のまわりの長さ

答え ()

③ れいぞうこの横の長さ

答え ()

④ ベンチの横の長さ

答え ()





長いものの長さの はかり方と表し方 3

● 長さをはかる道具



日にち： 月 日

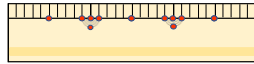
名まえ _____

・ 次の長さをはかります。①、②、③ のどれを使いますか。

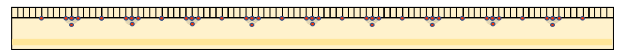
① まきじゃく



② 30cmものさし



③ 1mものさし



① えんぴつの長さ

答え (②)

② 電柱のまわりの長さ

答え (①)

③ れいぞうこの横の長さ

答え (③)

④ ベンチの横の長さ

答え (①)

