



分数 8

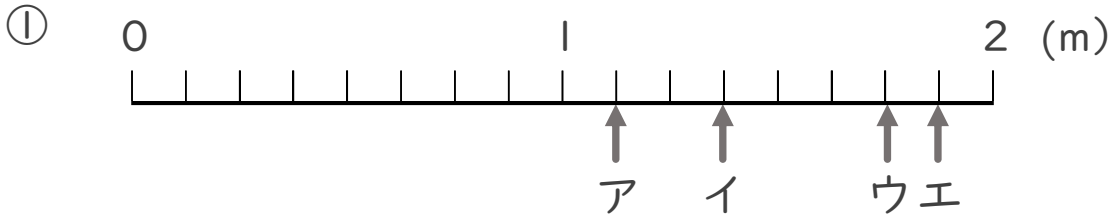
● 1より大きい分数を
数直線に表す



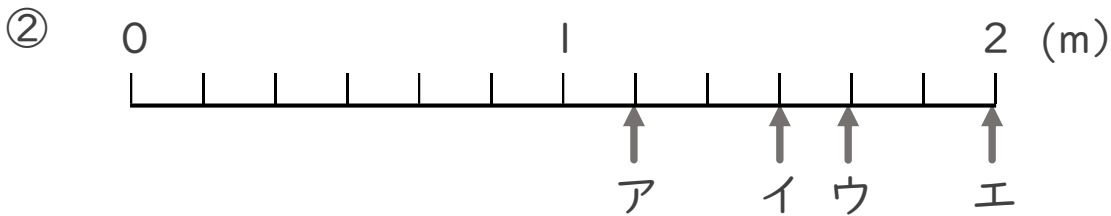
日にち： 月 日

名まえ _____

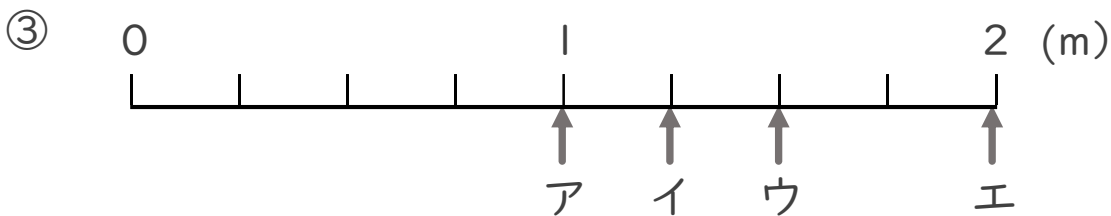
・ ア～エのめもりが表す長さは、それぞれ何mですか。



答え ア $\frac{9}{8}$ m イ $\frac{11}{8}$ m ウ $\frac{14}{8}$ m エ $\frac{15}{8}$ m



答え ア $\frac{7}{6}$ m イ $\frac{9}{6}$ m ウ $\frac{10}{6}$ m エ 2 m



答え ア 1 m イ $\frac{5}{4}$ m ウ $\frac{6}{4}$ m エ 2 m

