



分数 7

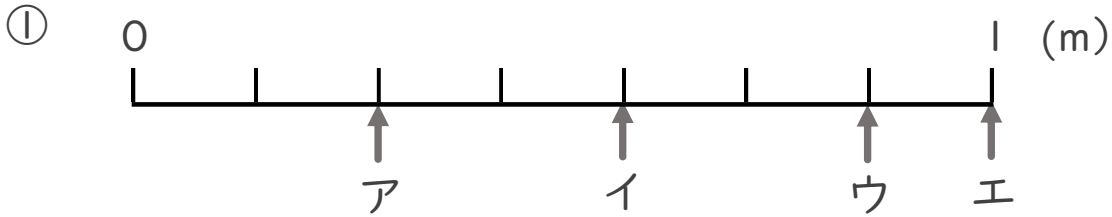
● 1より小さい分数を
数直線に表す



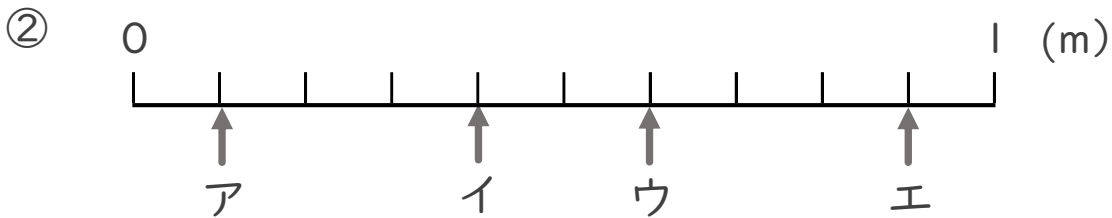
日にち： 月 日

名まえ _____

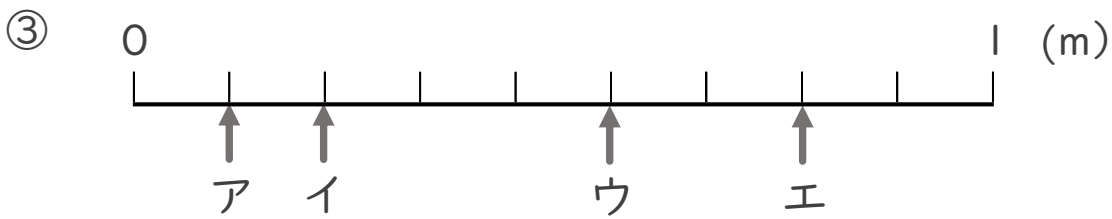
- ア～エのめもりが表す長さは、それぞれ何mですか。
(うすい字はなぞりましょう。)



答え ア 7 m イ m ウ m エ m



答え ア m イ m ウ m エ m



答え ア m イ m ウ m エ m



分数 7

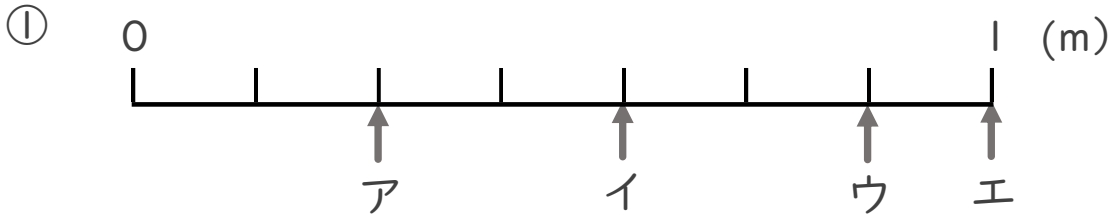
● 1より小さい分数を
数直線に表す



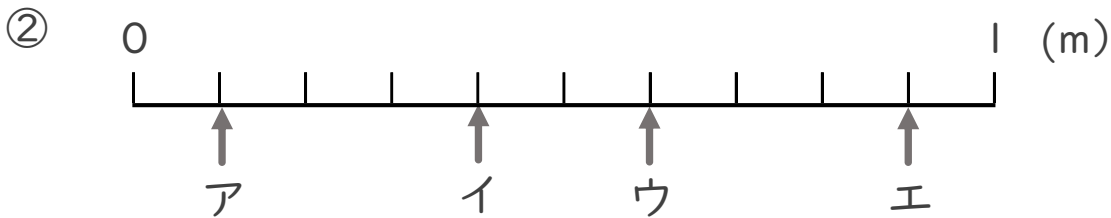
日にち： 月 日

名まえ _____

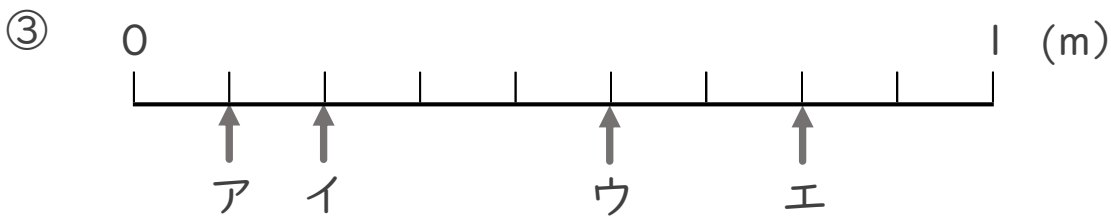
- ア～エのめもりが表す長さは、それぞれ何mですか。
(うすい字はなぞりましょう。)



答え ア $\frac{2}{7}$ m イ $\frac{4}{7}$ m ウ $\frac{6}{7}$ m エ 1 m



答え ア $\frac{1}{10}$ m イ $\frac{4}{10}$ m ウ $\frac{6}{10}$ m エ $\frac{9}{10}$ m



答え ア $\frac{1}{9}$ m イ $\frac{2}{9}$ m ウ $\frac{5}{9}$ m エ $\frac{7}{9}$ m