



# 分数 7

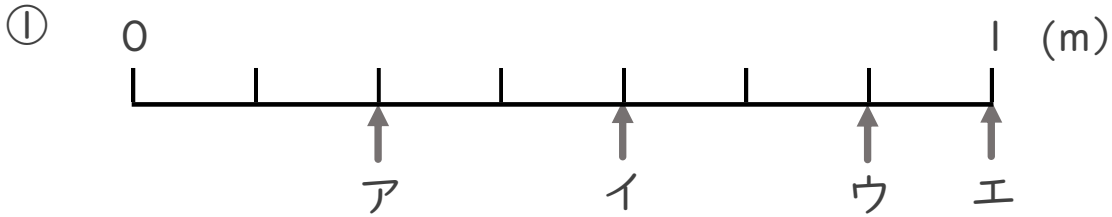
● 1より小さい分数を  
数直線に表す



日にち： 月 日

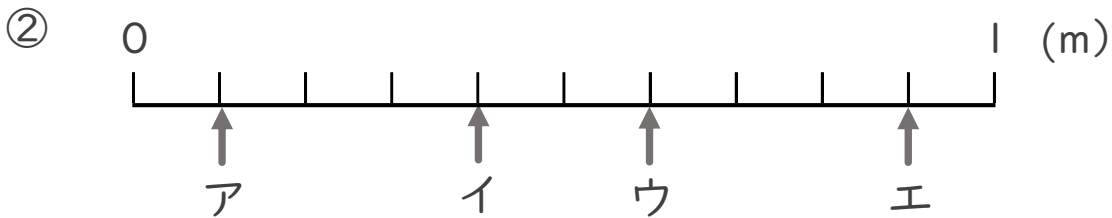
名まえ \_\_\_\_\_

・ ア～エのめもりが表す長さは、それぞれ何mですか。



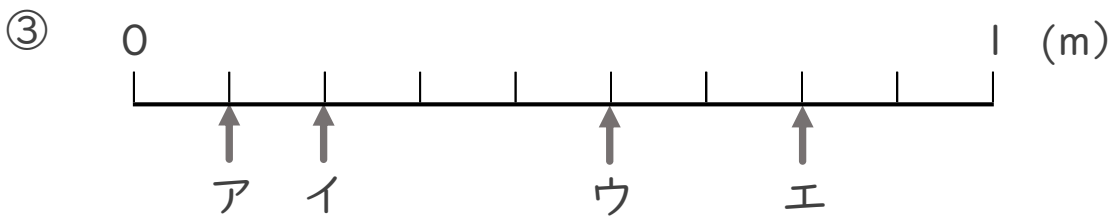
答え    ア                    イ                    ウ                    エ

          \_\_\_\_\_ m    \_\_\_\_\_ m    \_\_\_\_\_ m    \_\_\_\_\_ m



答え    ア                    イ                    ウ                    エ

          \_\_\_\_\_ m    \_\_\_\_\_ m    \_\_\_\_\_ m    \_\_\_\_\_ m



答え    ア                    イ                    ウ                    エ

          \_\_\_\_\_ m    \_\_\_\_\_ m    \_\_\_\_\_ m    \_\_\_\_\_ m



# 分数 7

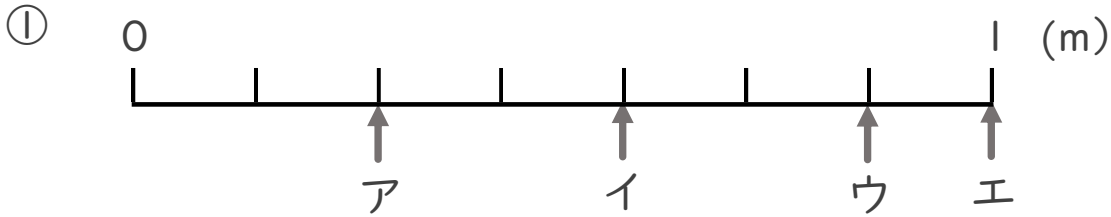
● 1より小さい分数を数直線に表す



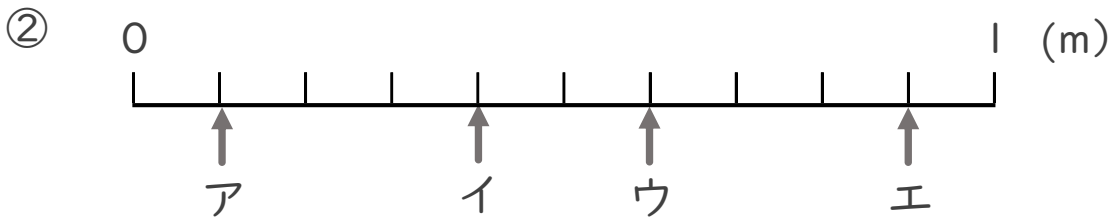
日にち： 月 日

名まえ \_\_\_\_\_

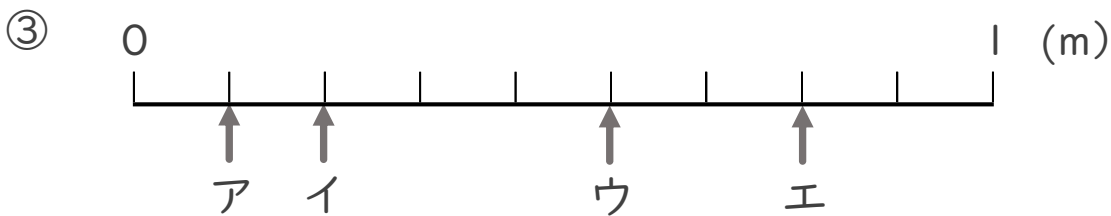
・ ア～エのめもりりが表す長さは、それぞれ何mですか。



答え ア  $\frac{2}{7}$  m イ  $\frac{4}{7}$  m ウ  $\frac{6}{7}$  m エ 1 m



答え ア  $\frac{1}{10}$  m イ  $\frac{4}{10}$  m ウ  $\frac{6}{10}$  m エ  $\frac{9}{10}$  m



答え ア  $\frac{1}{9}$  m イ  $\frac{2}{9}$  m ウ  $\frac{5}{9}$  m エ  $\frac{7}{9}$  m