



大きい数のしくみ 9

● 1万の位の数直線

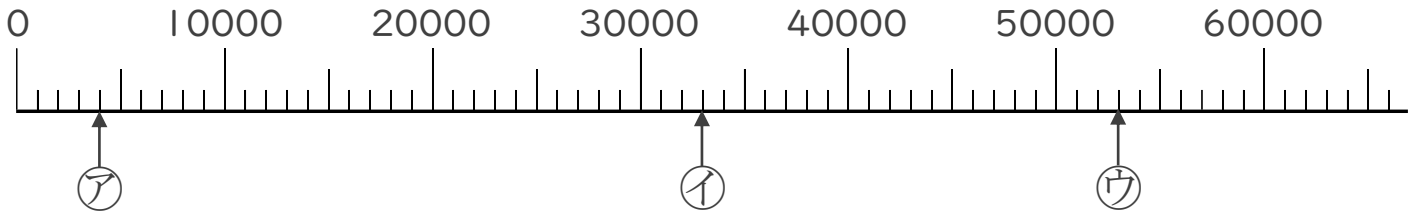


日にち： 月 日

名まえ _____

1 ㉠、㉡、㉢のめもりが表している数を〔 〕に書きましょう。

①

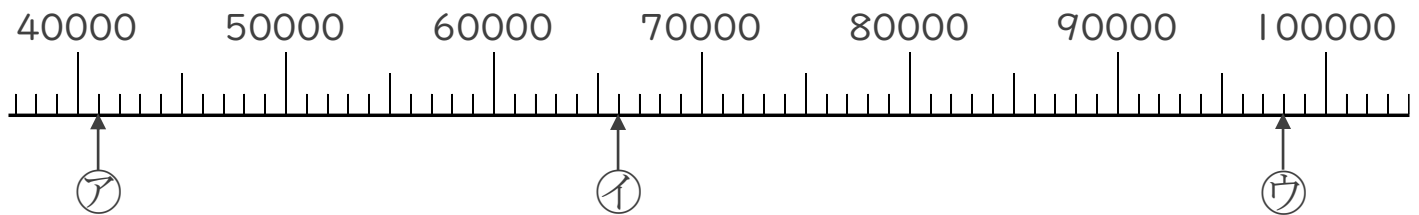


〔 〕

〔 〕

〔 〕

②



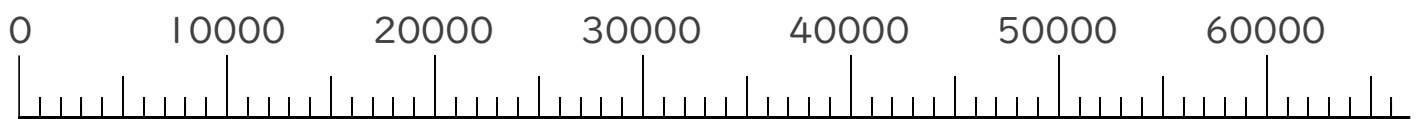
〔 〕

〔 〕

〔 〕

2 次の数を表すめもりに、↑を書きましょう。

① 9000 ② 52000





大きい数のしくみ 9

● 1万の位の数直線

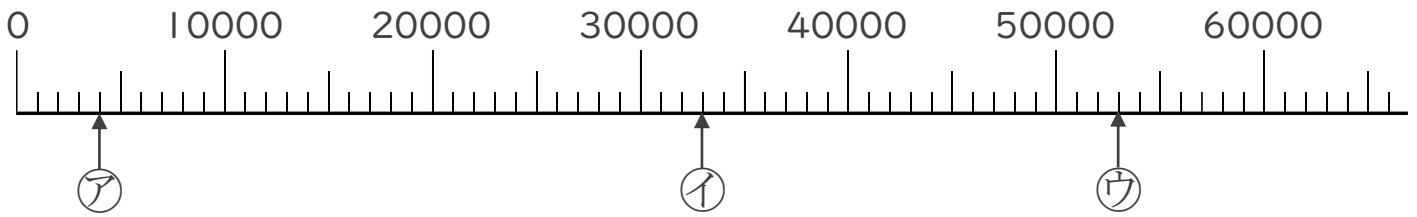


日にち： 月 日

名まえ _____

1 ㉠、㉡、㉢のめもりが表している数を〔 〕に書きましょう。

①

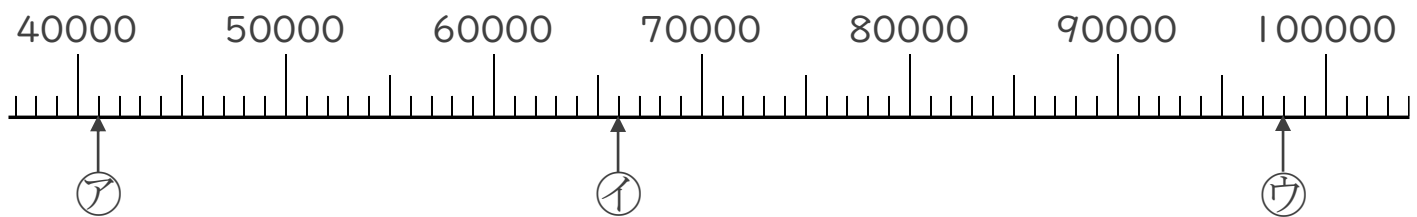


〔 4000 〕

〔 33000 〕

〔 53000 〕

②



〔 41000 〕

〔 66000 〕

〔 98000 〕

2 次の数を表すめもりに、↑を書きましょう。

① 9000 ② 52000

