



## かけ算の筆算 I

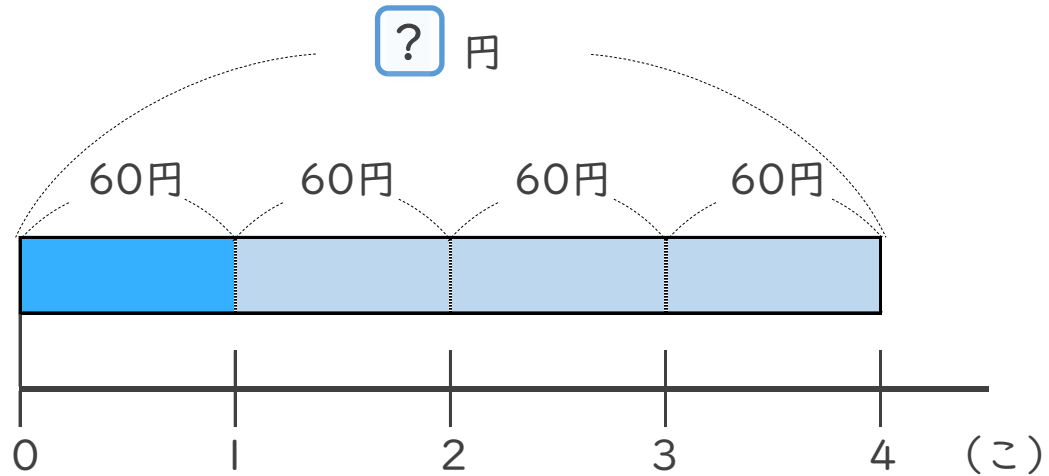
● 30 円のガムを  
4 こ買った代金



日にち：            月            日

名まえ \_\_\_\_\_

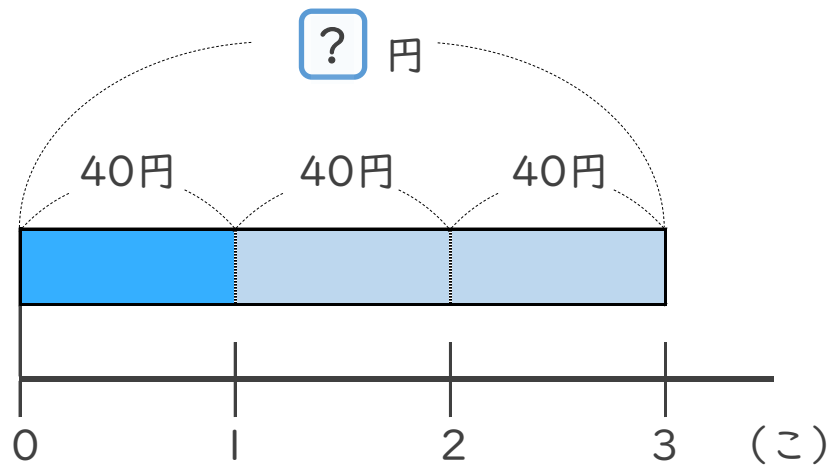
1 | 1 こ 60 円のチョコを、4 こ買います。代金はいくらですか。



式：

答え： \_\_\_\_\_

2 | 1 こ 40 円のガムを、3 こ買います。代金はいくらですか。



式：

答え： \_\_\_\_\_





## かけ算の筆算 ①

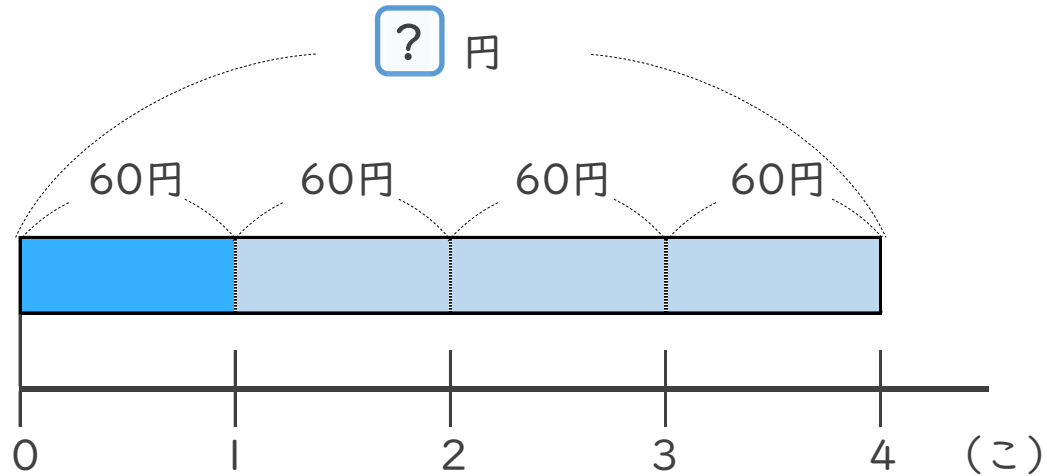
● 30 円のガムを  
4 こ買った代金



日にち：            月            日

名まえ \_\_\_\_\_

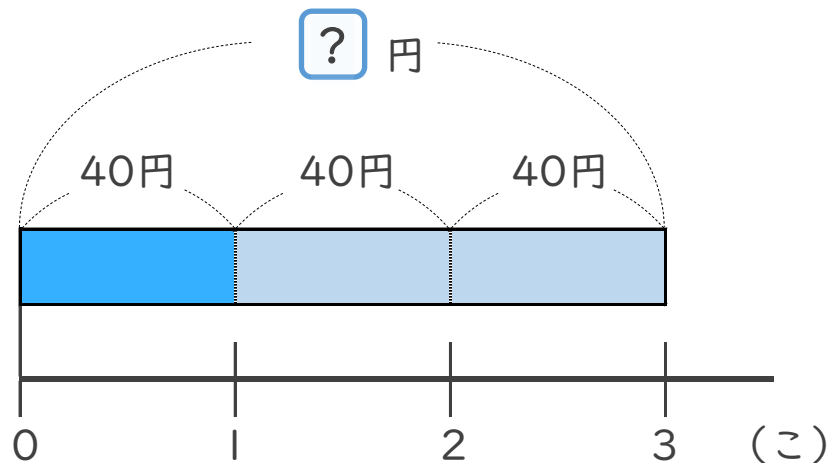
1 | 1 こ 60 円のチョコを、4 こ買います。代金はいくらですか。



式：  $60 \times 4 = 240$

答え： 240 円

2 | 1 こ 40 円のガムを、3 こ買います。代金はいくらですか。



式：  $40 \times 3 = 120$

答え： 120 円

