



ぼうグラフと表5

● ぼうグラフの
1めもりの大きさ

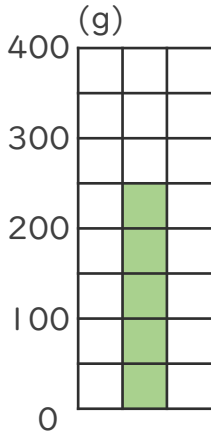


日にち： 月 日

名まえ _____

・ 次のぼうグラフで、1めもりが表している大きさと、
ぼうが表している大きさをもとめましょう。

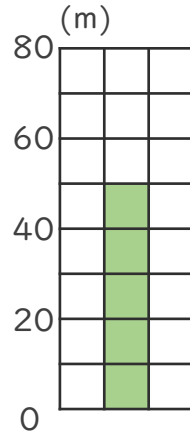
①



1めもり []

グラフ []

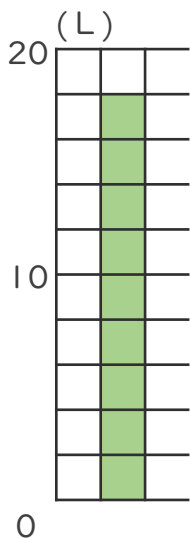
③



1めもり []

グラフ []

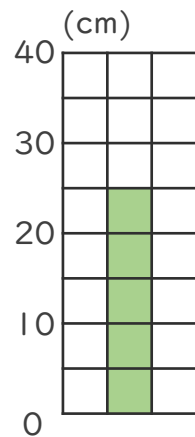
②



1めもり []

グラフ []

④



1めもり []

グラフ []





ぼうグラフと表5

● ぼうグラフの
1めもりの大きさ

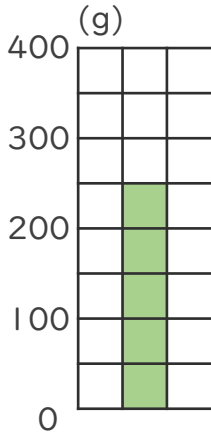


日にち： 月 日

名まえ _____

・ 次のぼうグラフで、1めもりが表している大きさと、
ぼうが表している大きさをもとめましょう。

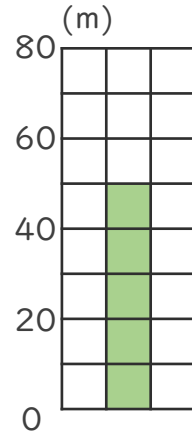
①



1めもり [50 g]

グラフ [250 g]

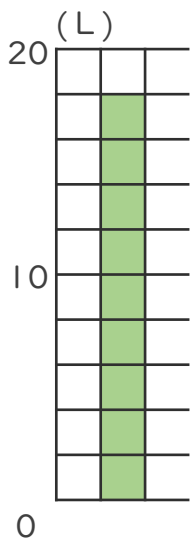
③



1めもり [10m]

グラフ [50m]

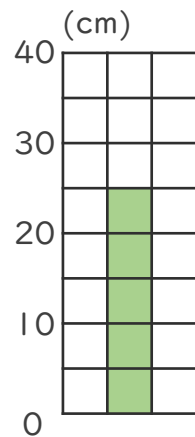
②



1めもり [2 L]

グラフ [18L]

④



1めもり [5cm]

グラフ [25cm]

