



長いものの長さの
はかり方と表し方 2

● まきじゃくへの書きこみ



日にち： 月 日

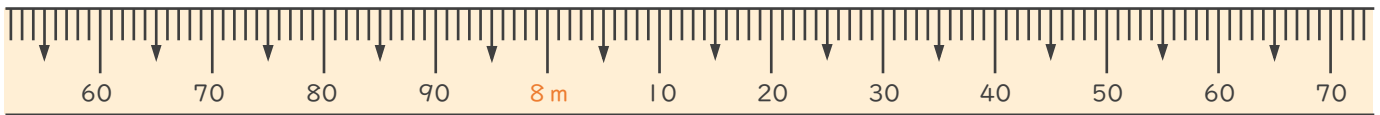
名まえ _____

1 次のまきじゃくで、①～③の長さ^{なが}を表す^{あらわ}めもりに ↓ をかきましょう。

① 7 m 7 5 c m

② 7 m 9 6 c m

③ 8 m 1 0 c m

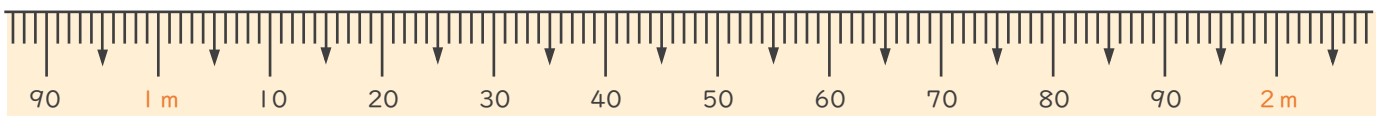


2 次のまきじゃくで、①～③の長さ^{なが}を表す^{あらわ}めもりに ↓ をかきましょう。

① 1 m 1 5 c m

② 1 m 6 3 c m

③ 2 m 3 c m





長いものの長さの はかり方と表し方 2

● まきじゃくへの書きこみ



日にち： 月 日

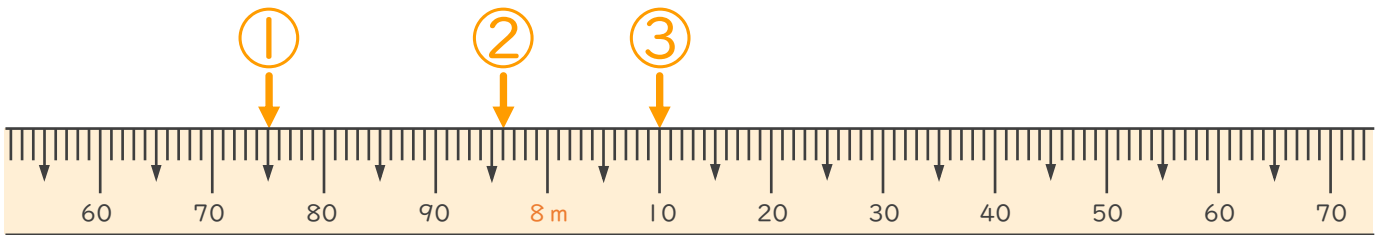
名まえ _____

1 次のまきじゃくで、①～③の長さ^{なが}を表す^{あらわ}メモりに ↓ をかきましょう。

① 7 m 7 5 c m

② 7 m 9 6 c m

③ 8 m 1 0 c m



2 次のまきじゃくで、①～③の長さ^{なが}を表す^{あらわ}メモりに ↓ をかきましょう。

① 1 m 1 5 c m

② 1 m 6 3 c m

③ 2 m 3 c m

