



倍の計算 2

◎ 何倍かをもとめよう

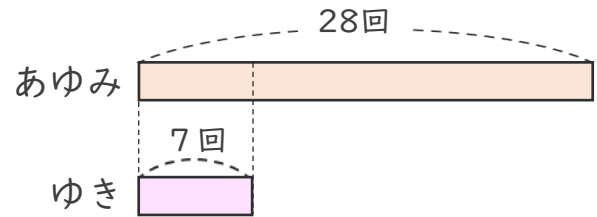


日にち： 月 日

名まえ _____

1 大なわとびで あゆみさんのはんは28回、
 ゆきさんのはんは7回とびました。
 あゆみさんのはんは、ゆきさんのはんの何倍とびましたか。

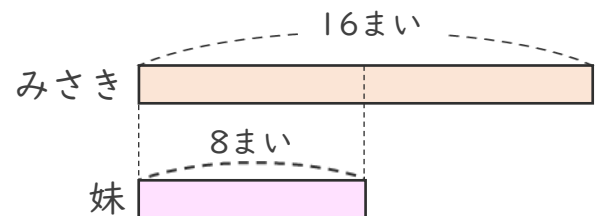
式：



答え： _____

2 みさきさんは、色紙を16まい持っています。
 みさきさんの妹は、8まい持っています。
 みさきさんは妹の何倍持っていますか。

式：



答え： _____



倍の計算 2

◎ 何倍かをもとめよう

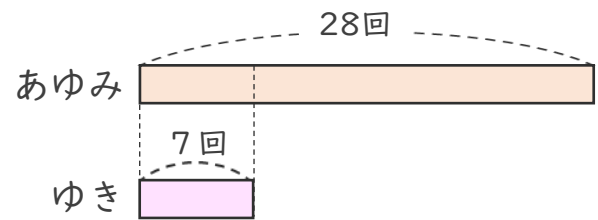


日にち： 月 日

名まえ _____

- 1 大なわとびで あゆみさんのはんは28回、
ゆきさんのはんは7回とびました。
あゆみさんのはんは、ゆきさんのはんの何倍とびましたか。

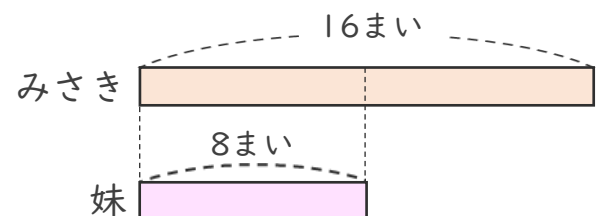
$$\text{式： } 28 \div 7 = 4$$



答え： 4 倍

- 2 みさきさんは、色紙を16まい持っています。
みさきさんの妹は、8まい持っています。
みさきさんは妹の何倍持っていますか。

$$\text{式： } 16 \div 8 = 2$$



答え： 2 倍