



# 円と球 3

● 円の中の一番長い線 (直径)

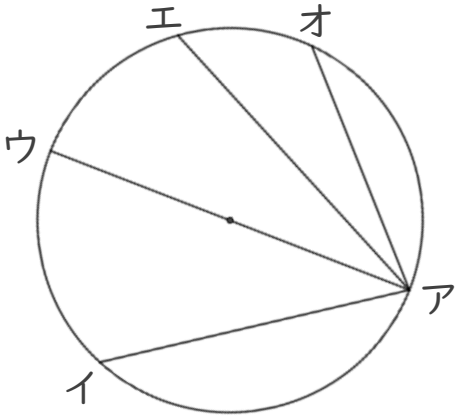


日にち：            月            日

名まえ \_\_\_\_\_

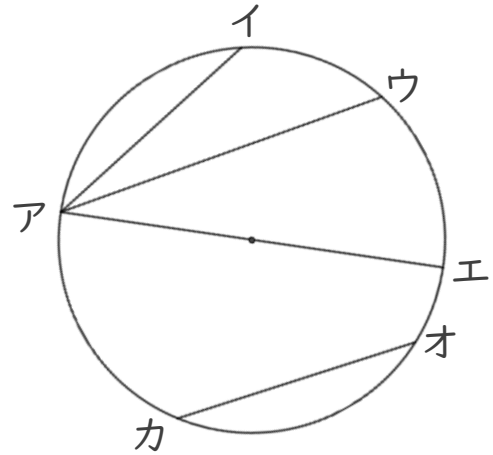
・ 円の中にひいた直線で一番長い直線はどれですか。

①



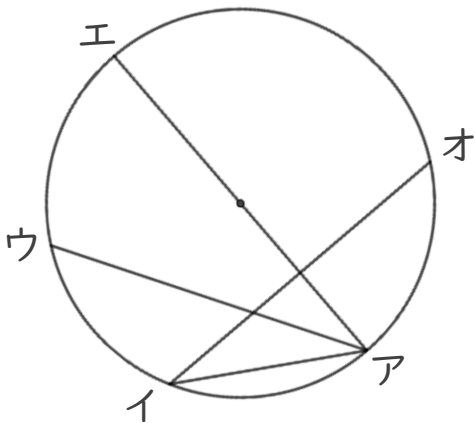
答え： \_\_\_\_\_

③



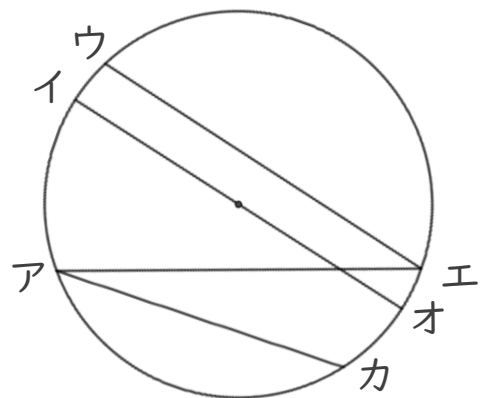
答え： \_\_\_\_\_

②



答え： \_\_\_\_\_

④



答え： \_\_\_\_\_



# 円と球 3

● 円の中の一番長い線 (直径)

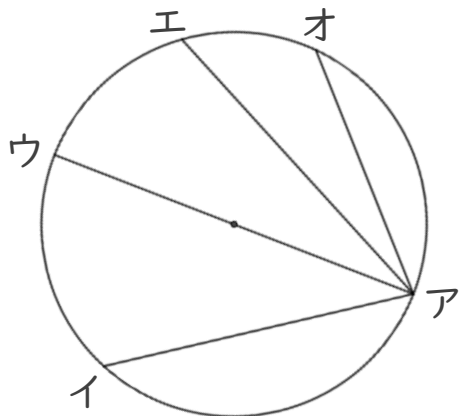


日にち：            月            日

名まえ \_\_\_\_\_

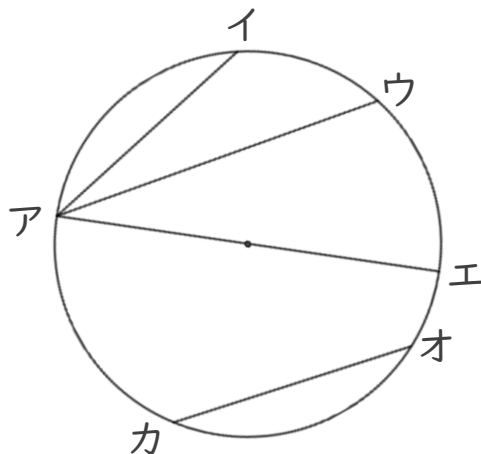
・ 円の中にひいた直線で一番長い直線はどれですか。

①



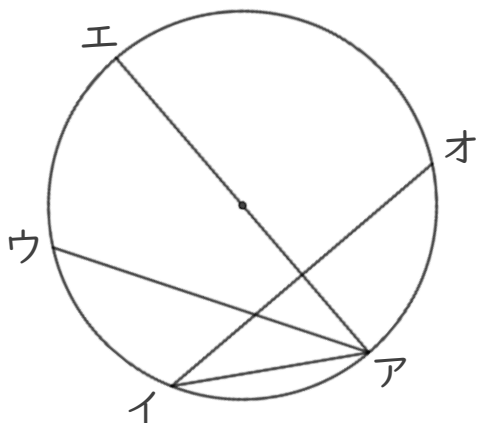
答え：直線アウ

③



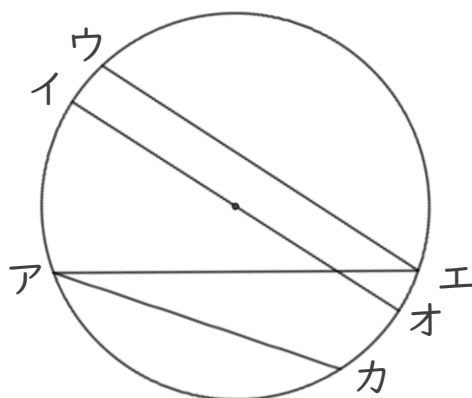
答え：直線アエ

②



答え：直線アエ

④



答え：直線イオ

