



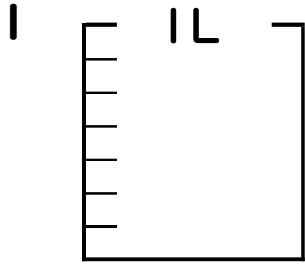
分数 5

● 分数の水のかさの色ぬり



日にち： 月 日

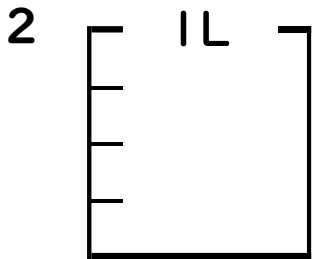
名まえ _____



① $\frac{1}{7}$ Lの 4 分だけ色をぬりましょう。

② 色をぬったところのかさは何Lですか。

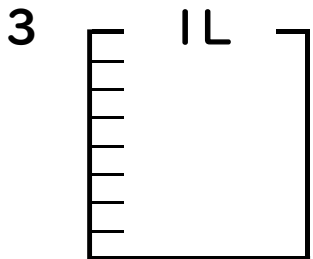
_____ L



① $\frac{1}{4}$ Lの 1 分だけ色をぬりましょう。

② 色をぬったところのかさは何Lですか。

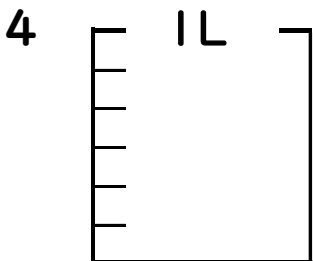
_____ L



① $\frac{1}{8}$ Lの 3 分だけ色をぬりましょう。

② 色をぬったところのかさは何Lですか。

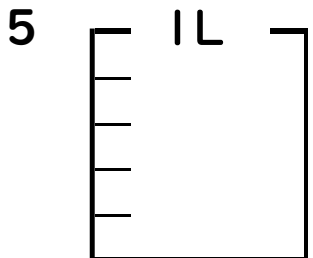
_____ L



① $\frac{1}{6}$ Lの 2 分だけ色をぬりましょう。

② 色をぬったところのかさは何Lですか。

_____ L



① $\frac{1}{5}$ Lの 2 分だけ色をぬりましょう。

② 色をぬったところのかさは何Lですか。

_____ L





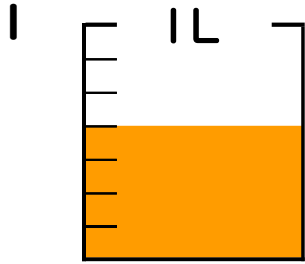
分数 5

◎ 分数の水のかさの色ぬり



日にち： 月 日

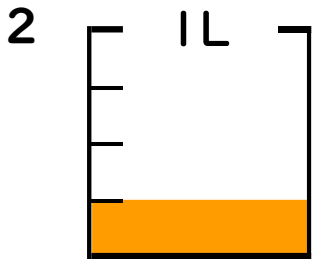
名まえ _____



① $\frac{1}{7}$ Lの 4 分だけ色をぬりましょう。

② 色をぬったところのかさは何Lですか。

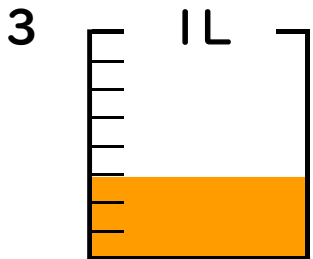
$$\underline{\underline{\frac{4}{7} \text{ L}}}$$



① $\frac{1}{4}$ Lの 1 分だけ色をぬりましょう。

② 色をぬったところのかさは何Lですか。

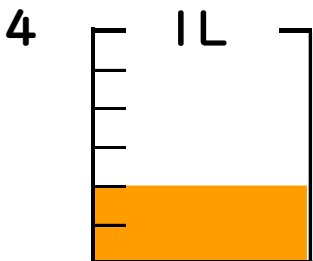
$$\underline{\underline{\frac{1}{4} \text{ L}}}$$



① $\frac{1}{8}$ Lの 3 分だけ色をぬりましょう。

② 色をぬったところのかさは何Lですか。

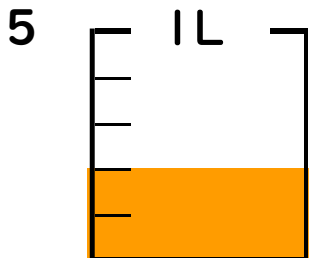
$$\underline{\underline{\frac{3}{8} \text{ L}}}$$



① $\frac{1}{6}$ Lの 2 分だけ色をぬりましょう。

② 色をぬったところのかさは何Lですか。

$$\underline{\underline{\frac{2}{6} \text{ L}}}$$



① $\frac{1}{5}$ Lの 2 分だけ色をぬりましょう。

② 色をぬったところのかさは何Lですか。

$$\underline{\underline{\frac{2}{5} \text{ L}}}$$

