



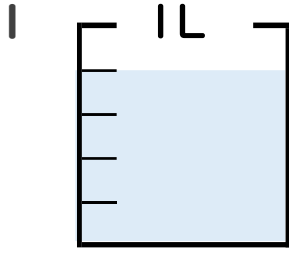
分数 4

分数の水のかさの読み取り



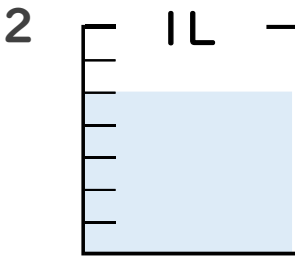
日にち： 月 日

名まえ



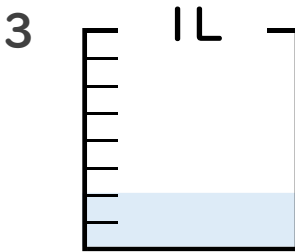
① 図の水のかさは1めもりの何こ分ですか？ 分

② 水のかさは、何Lですか？ L



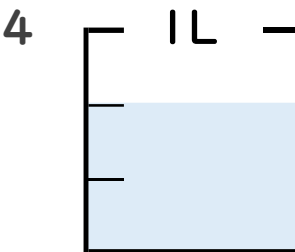
① 図の水のかさは1めもりの何こ分ですか？ 分

② 水のかさは、何Lですか？ L



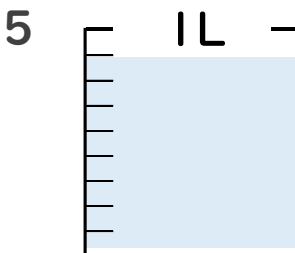
① 図の水のかさは1めもりの何こ分ですか？ 分

② 水のかさは、何Lですか？ L



① 図の水のかさは1めもりの何こ分ですか？ 分

② 水のかさは、何Lですか？ L



① 図の水のかさは1めもりの何こ分ですか？ 分

② 水のかさは、何Lですか？ L





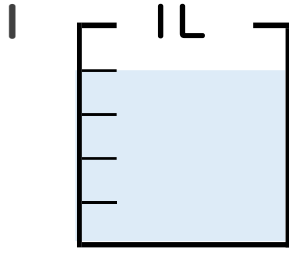
分数 4

● 分数の水のかさの読み取り



日にち： 月 日

名まえ _____

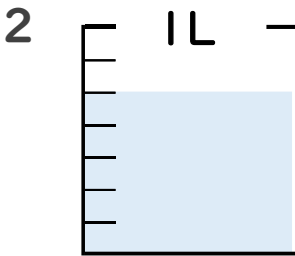


① 図の水のかさは1めもりの何こ分ですか？

4 共分

② 水のかさは、何Lですか？

$\frac{4}{5}$ L

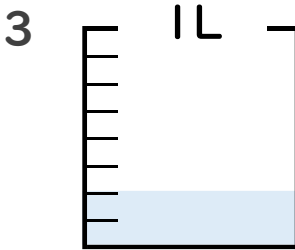


① 図の水のかさは1めもりの何こ分ですか？

5 共分

② 水のかさは、何Lですか？

$\frac{5}{7}$ L

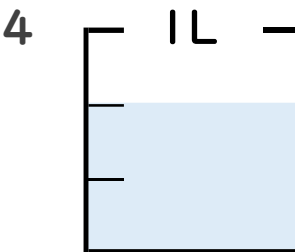


① 図の水のかさは1めもりの何こ分ですか？

2 共分

② 水のかさは、何Lですか？

$\frac{2}{8}$ L

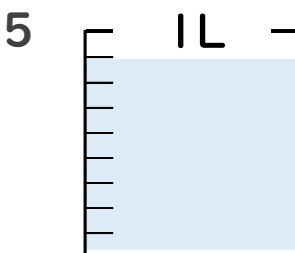


① 図の水のかさは1めもりの何こ分ですか？

2 共分

② 水のかさは、何Lですか？

$\frac{2}{3}$ L



① 図の水のかさは1めもりの何こ分ですか？

8 共分

② 水のかさは、何Lですか？

$\frac{8}{9}$ L

