



小数の意味と表し方7

● 小数で表す1cmより短い長さ

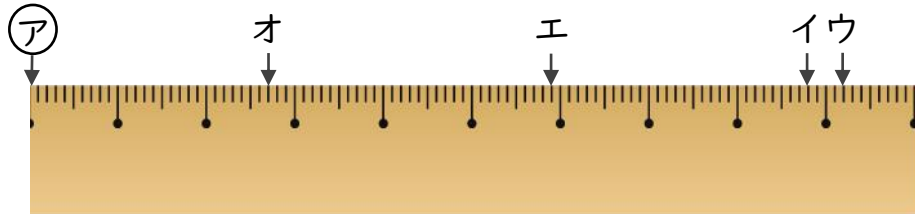


日にち： 月 日

名まえ _____

・ ㊦からイ、ウ、エ、オまでの長さは、それぞれ何cmですか。

①



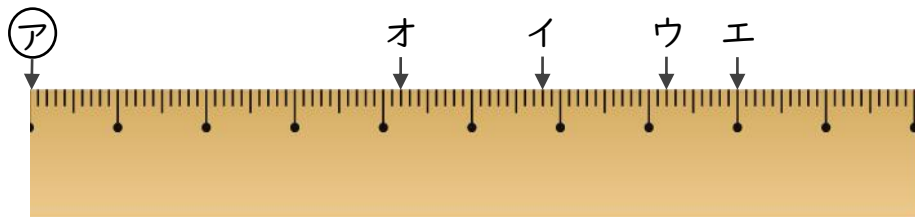
答え ㊦からイ

㊦からウ

㊦からエ

㊦からオ

②



答え ㊦からイ

㊦からウ

㊦からエ

㊦からオ



小数の意味と表し方7

● 小数で表す1cmより短い長さ

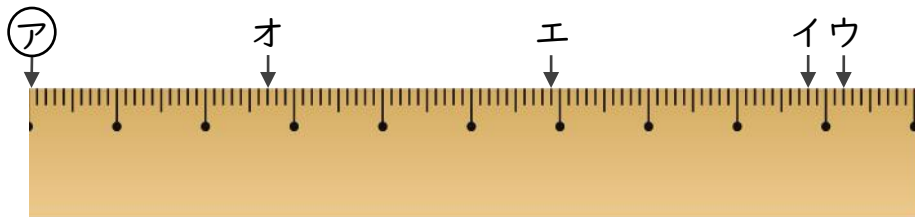


日にち： 月 日

名まえ _____

・ ㊦からイ、ウ、エ、オまでの長さは、それぞれ何cmですか。

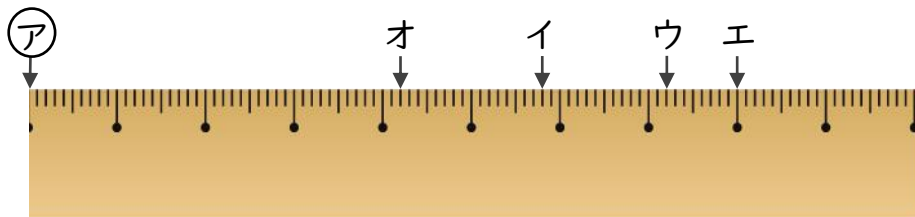
①



答え ㊦からイ **8.8 cm** ㊦からウ **9.2 cm**

 ㊦からエ **5.9 cm** ㊦からオ **2.7 cm**

②



答え ㊦からイ **5.8 cm** ㊦からウ **7.2 cm**

 ㊦からエ **8 cm** ㊦からオ **4.2 cm**