



小数の意味と表し方 II

● 小数の位置を数直線へ書きこむ



日にち： 月 日

名まえ _____

・ 次の数を、数直線に ↑ で数を書きましょう。

① 1.9

② 1.2

③ 0.2

④ 1.1



⑤ 1.5

⑥ 0.3

⑦ 0.9

⑧ 0.1




⑨ 1

⑩ 0.4

⑪ 1.3

⑫ 0.3





小数の意味と表し方 II

● 小数の位置を数直線へ書きこむ

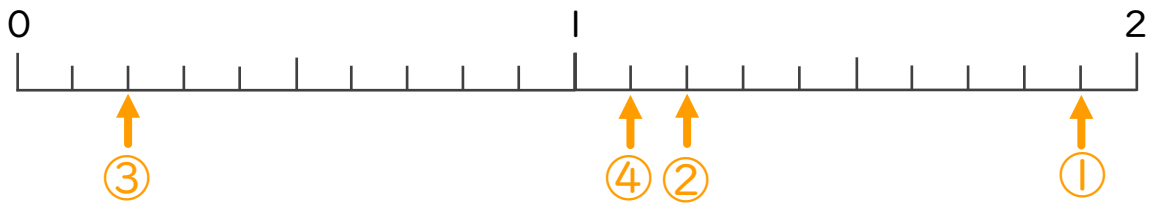


日にち： 月 日

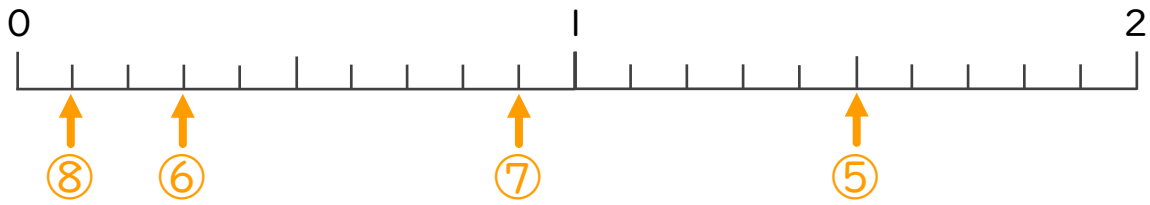
名まえ _____

・ 次の数を、数直線に↑で数を書きましょう。

- ① 1.9 ② 1.2 ③ 0.2 ④ 1.1



- ⑤ 1.5 ⑥ 0.3 ⑦ 0.9 ⑧ 0.1



- ⑨ 1 ⑩ 0.4 ⑪ 1.3 ⑫ 0.3

