



たし算と  
ひき算の筆算 22

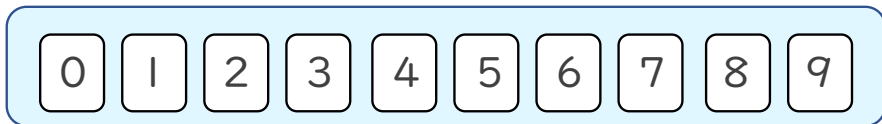


● 式をつくろう  
(大きな数のたし算)

日にち： 月 日

名まえ \_\_\_\_\_

- ・  から  までの10まいのカードを8まい使って、  
答えが9000になるたし算の式をつくりましょう。



$$\square\square\square\square + \square\square\square\square = 9000$$

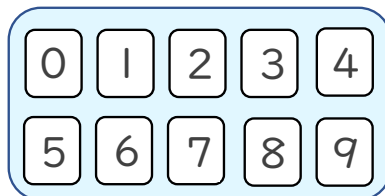
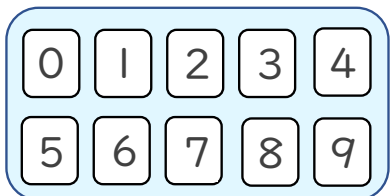
☆ 次の  に数字を入れましょう。

①

+				
	9	0	0	0

②

+				
	9	0	0	0

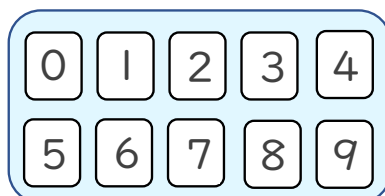
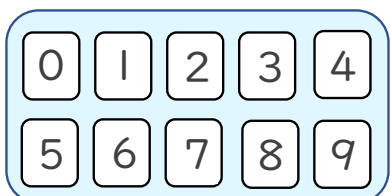


③

+				
	9	0	0	0

④

+				
	9	0	0	0





# たし算とひき算の筆算 22

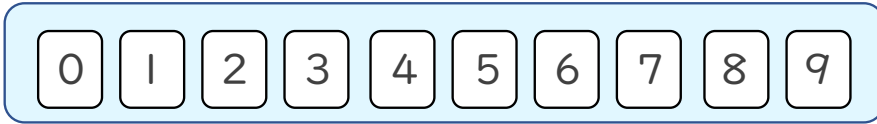


● 式をつくろう  
(大きな数のたし算)

日にち： 月 日

名まえ \_\_\_\_\_

- ・ 0 から 9 までの10まいのカードを8まい使って、  
答えが9000になるたし算の式をつくりましょう。



$$\square\square\square\square + \square\square\square\square = 9000$$

☆ 次の  に数字を入れましょう。

(例)

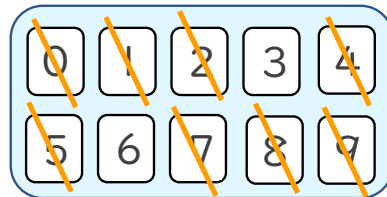
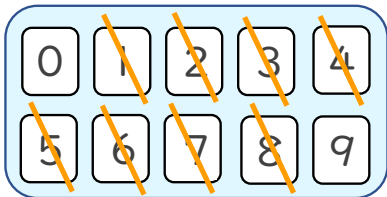
①

	6	4	1	7
+	2	5	8	3
	9	0	0	0

(例)

②

	1	4	9	8
+	7	5	0	2
	9	0	0	0



(例)

③

	3	8	7	6
+	5	1	2	4
	9	0	0	0

(例)

④

	5	0	2	4
+	3	9	7	6
	9	0	0	0

