



□を使った式 10

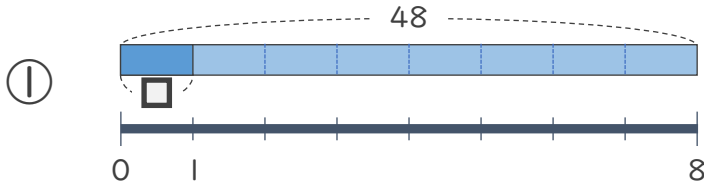
● 数 ÷ □ の
□ をもとめる計算



日にち： 月 日

名まえ _____

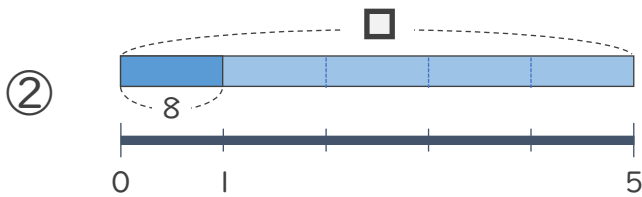
・ □ にあてはまる数をもとめましょう。



$$48 \div \square = 8$$

$$\square =$$

$$\square =$$



$$\square \div 5 = 8$$

$$\square =$$

$$\square =$$



□を使った式 10

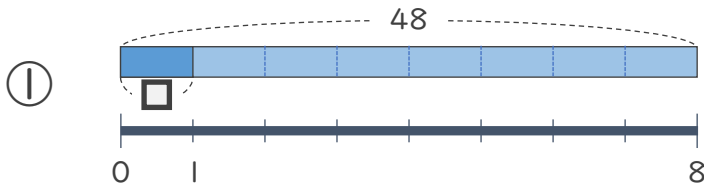
● 数 ÷ □ の
□ をもとめる計算



日にち： 月 日

名まえ _____

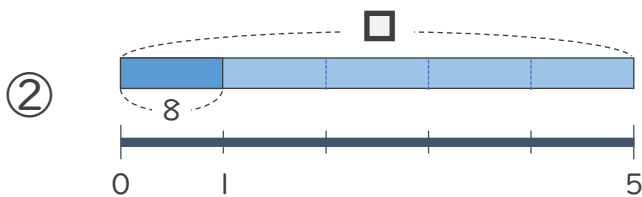
- にあてはまる数をもとめましょう。



$$48 \div \square = 8$$

$$\square = 48 \div 8$$

$$\square = 6$$



$$\square \div 5 = 8$$

$$\square = 8 \times 5$$

$$\square = 40$$

