



# 小数の意味と表し方 10

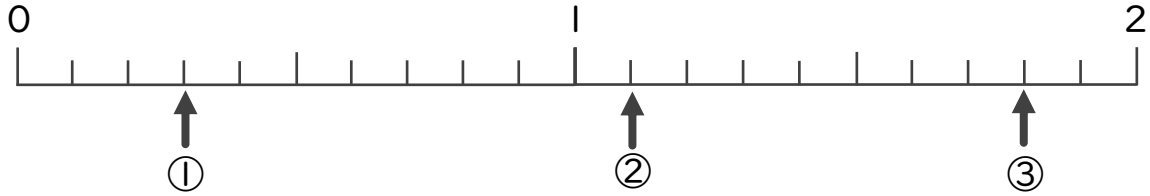
● 数直線の小数の読みとり



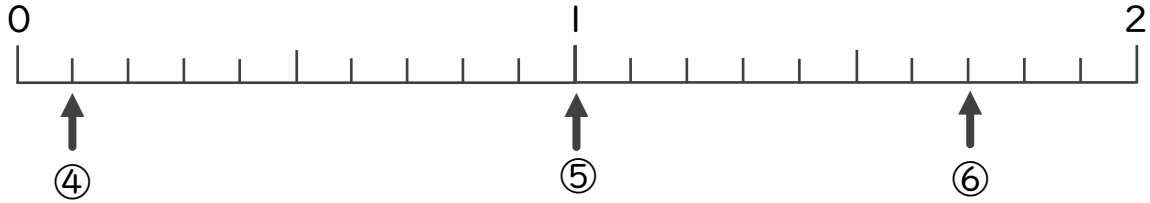
日にち：            月            日

名まえ \_\_\_\_\_

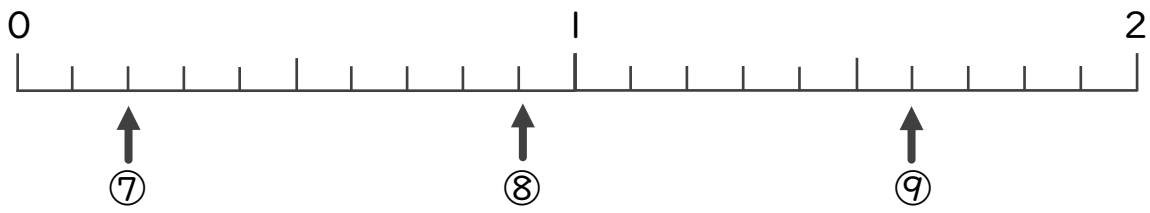
・ 下の数直線を見て ↑ のめもりが表す数を書きましょう。




① \_\_\_\_\_                      ② \_\_\_\_\_                      ③ \_\_\_\_\_



④ \_\_\_\_\_                      ⑤ \_\_\_\_\_                      ⑥ \_\_\_\_\_



⑦ \_\_\_\_\_                      ⑧ \_\_\_\_\_                      ⑨ \_\_\_\_\_



# 小数の意味と表し方 10

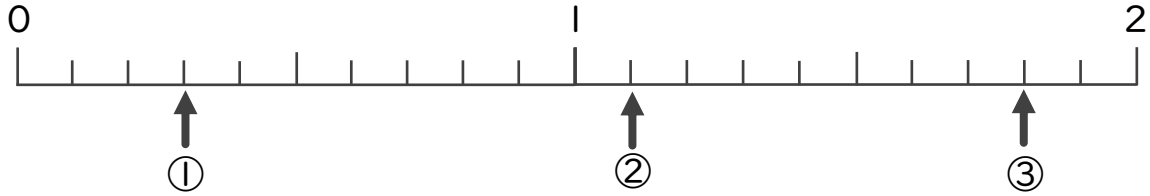
● 数直線の小数の読みとり



日にち：            月            日

名まえ \_\_\_\_\_

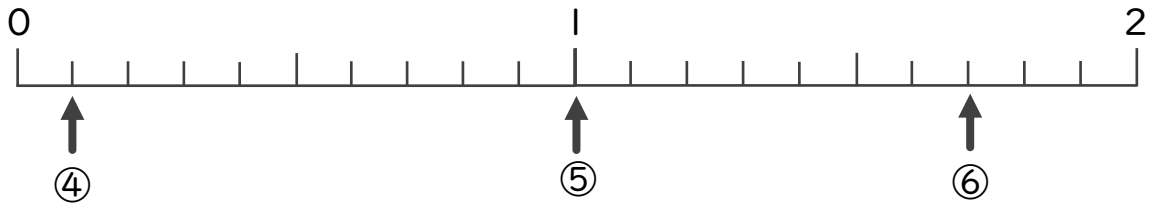
・ 下の数直線を見て ↑ のめもりが表す数を書きましょう。



① 0.3

② 1.1

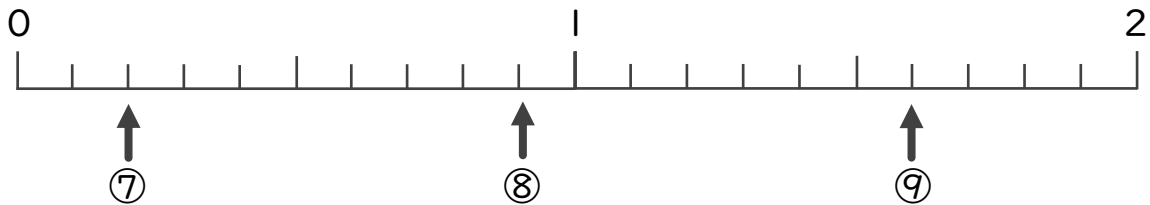
③ 1.8



④ 0.1

⑤ 1

⑥ 1.7



⑦ 0.2

⑧ 0.9

⑨ 1.6