



## □を使った式 8

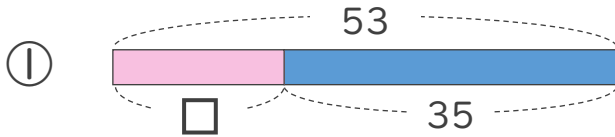
● 数-□の□を  
もとめる計算



日にち：            月            日

名まえ \_\_\_\_\_

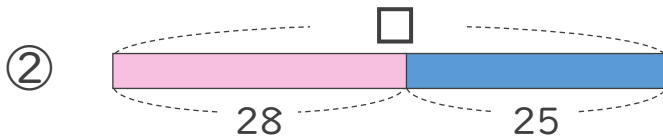
- にあてはまる数をもとめましょう。



$$53 - \square = 35$$

$$\square =$$

$$\square =$$



$$\square - 25 = 28$$

$$\square =$$

$$\square =$$



## □を使った式 8

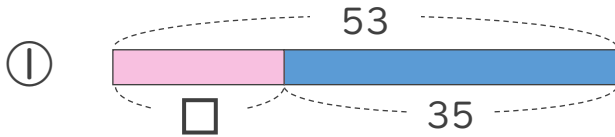
● 数-□の□を  
もとめる計算



日にち：        月        日

名まえ \_\_\_\_\_

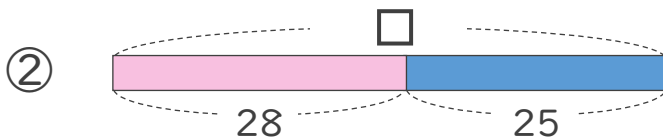
- にあてはまる数をもとめましょう。



$$53 - \square = 35$$

$$\square = 53 - 35$$

$$\square = 18$$



$$\square - 25 = 28$$

$$\square = 28 + 25$$

$$\square = 53$$