



時こくと時間の
もとめかた 8

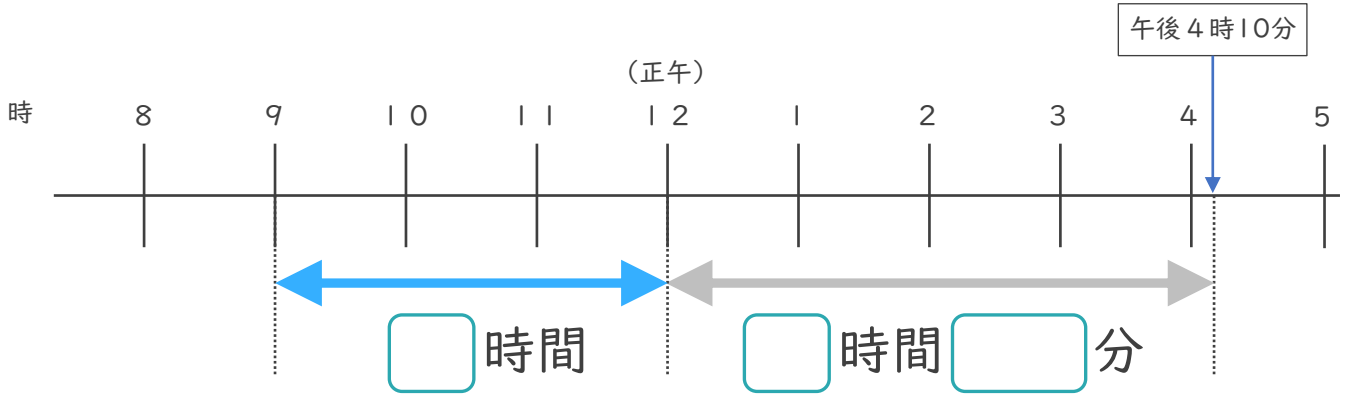


● 正午をはさむ計算

日にち： 月 日

名まえ _____

1 午前9時から午後4時10分までの時間をもとめます。

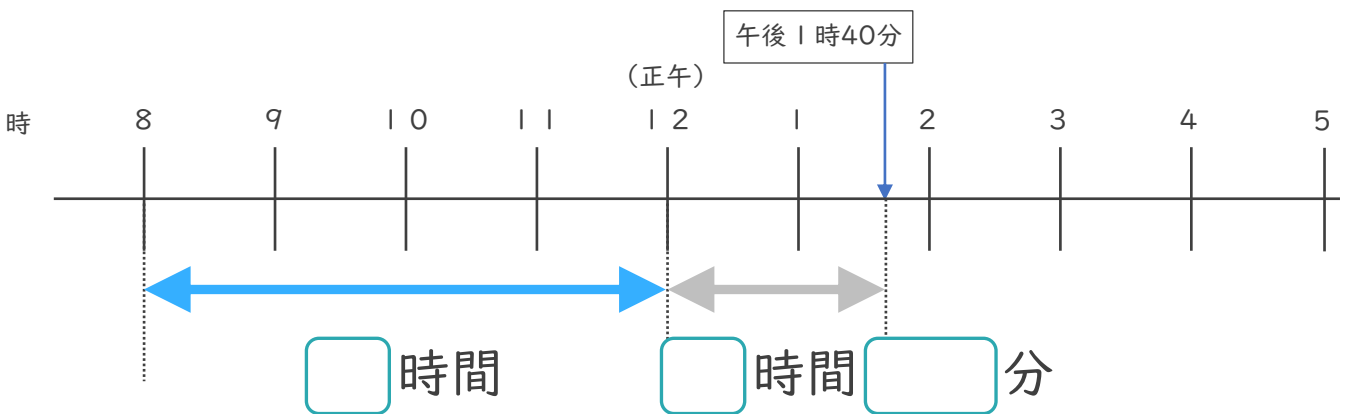


① □にあてはまる数を書きましょう。

② 午前9時から午後4時10分までの時間は何時間何分ですか。

答え ()

2 午前8時から午後1時40分までの時間をもとめます。



① □にあてはまる^{かず}数を書きましょう。

② 午前8時から午後1時40分までの時間は何時間何分ですか。

答え ()



時こくと時間の もとめかた 8

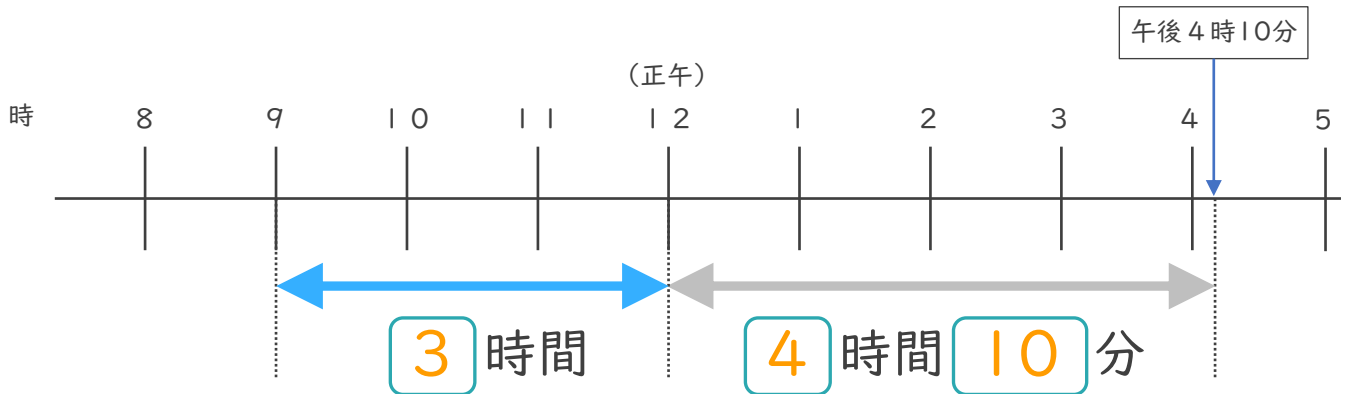
● 正午をはさむ計算



日にち： 月 日

名まえ _____

1 午前9時から午後4時10分までの時間をもとめます。

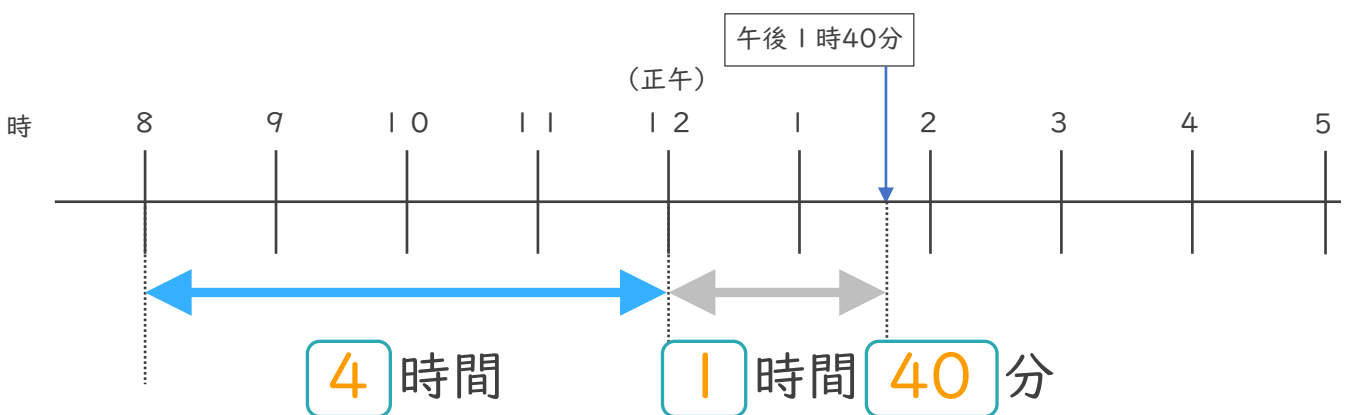


① にあてはまる数を書きましょう。

② 午前9時から午後4時10分までの時間は何時間何分ですか。

答え (7時間10分)

2 午前8時から午後1時40分までの時間をもとめます。



① にあてはまる^{かず}数を書きましょう。

② 午前8時から午後1時40分までの時間は何時間何分ですか。

答え (5時間40分)

