



時こくと時間の  
もとめかた 8

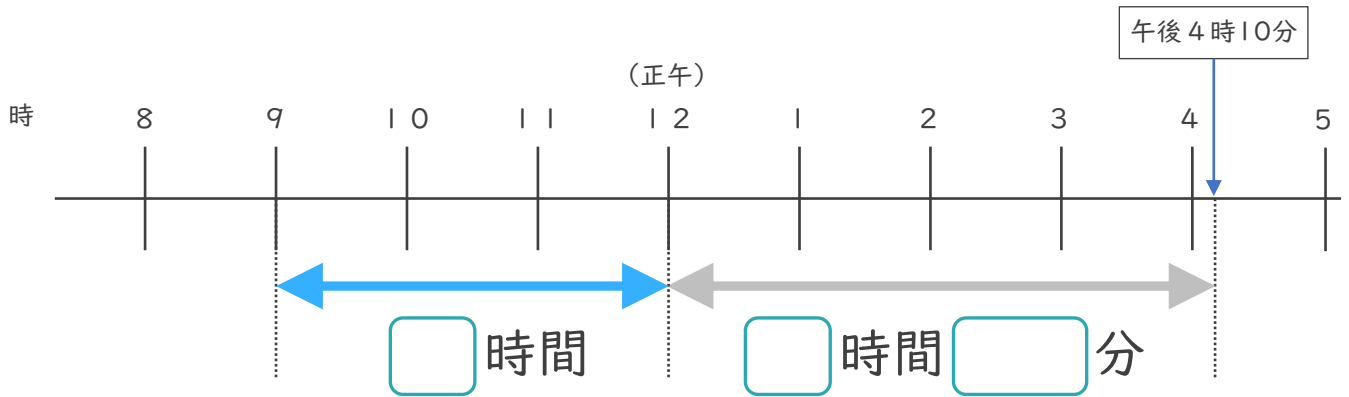


◎ 正午をはさむ計算

日にち： 月 日

名まえ \_\_\_\_\_

1 午前9時から午後4時10分までの時間をもとめます。

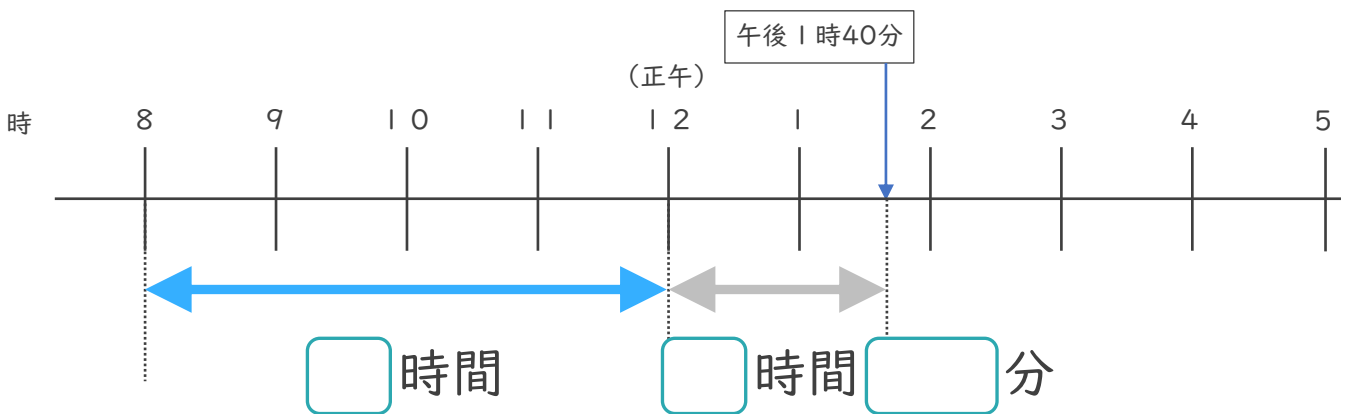


① □にあてはまる数を書きましょう。

② 午前9時から午後4時10分までの時間は何時間何分ですか。

答え ( )

2 午前8時から午後1時40分までの時間をもとめます。



① □にあてはまる数を書きましょう。

② 午前8時から午後1時40分までの時間は何時間何分ですか。

答え ( )





# 時こくと時間の もとめかた 8

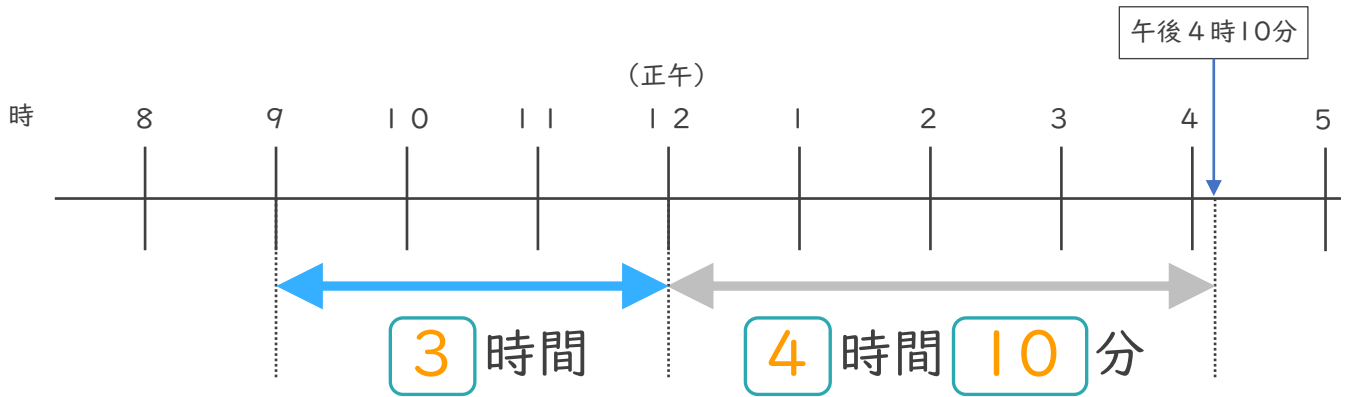
● 正午をはさむ計算



日にち：            月            日

名まえ \_\_\_\_\_

1 午前9時から午後4時10分までの時間をもとめます。

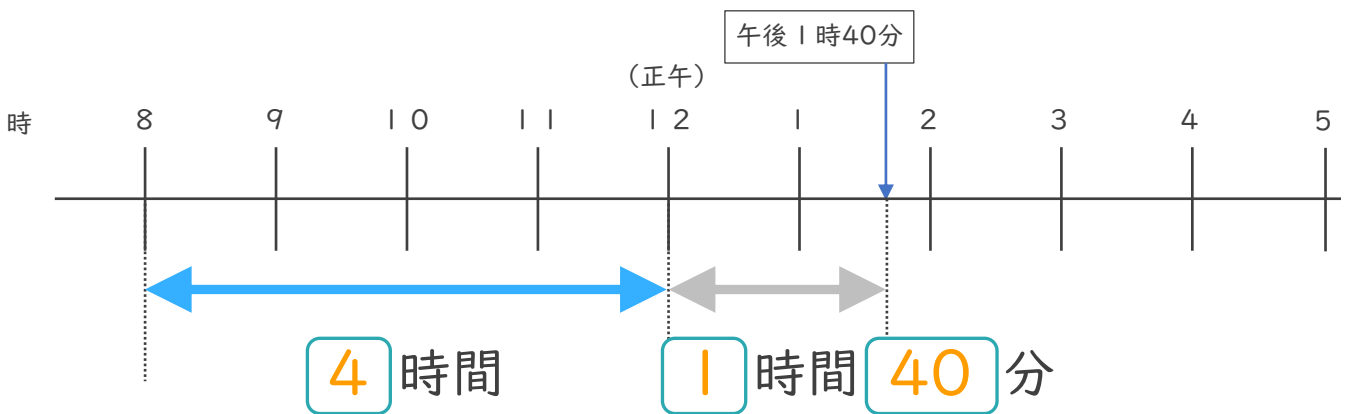


①  にあてはまる数を書きましょう。

② 午前9時から午後4時10分までの時間は何時間何分ですか。

答え (            7 時間 10 分            )

2 午前8時から午後1時40分までの時間をもとめます。



①  にあてはまる数を書きましょう。

② 午前8時から午後1時40分までの時間は何時間何分ですか。

答え (            5 時間 40 分            )

