



円と球 10

● 球の半径や直径の長さ

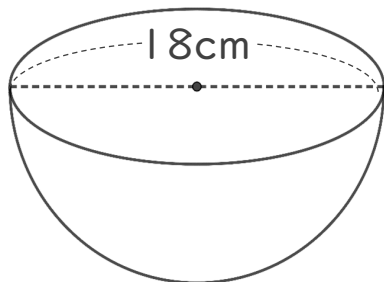


日にち： 月 日

名まえ _____

・ 次の球の半径や直径は何cmですか。

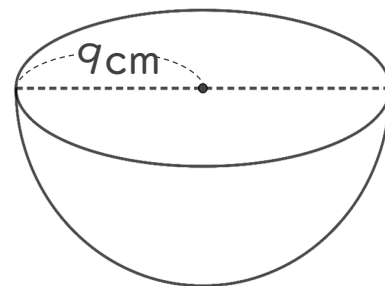
① 半径は何cmですか。



式：

答え： _____

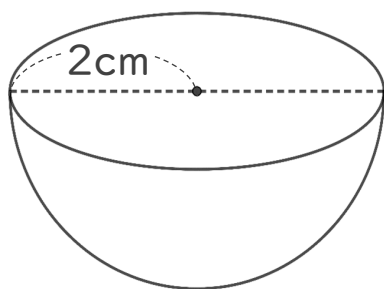
③ 直径は何cmですか。



式：

答え： _____

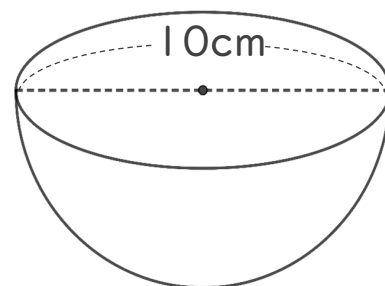
② 直径は何cmですか。



式：

答え： _____

④ 半径は何cmですか。



式：

答え： _____



円と球 10

● 球の半径や直径の長さ

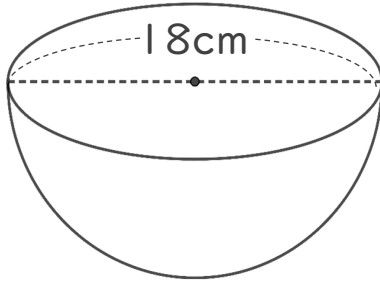


日にち： 月 日

名まえ _____

・ 次の球の半径や直径は何cmですか。

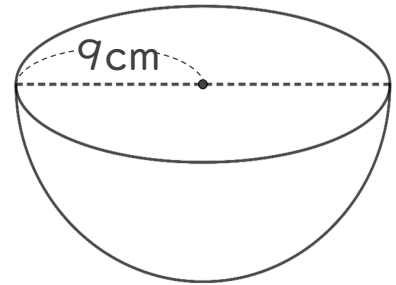
① 半径は何cmですか。



$$\text{式： } 18 \div 2 = 9$$

答え： 9 cm

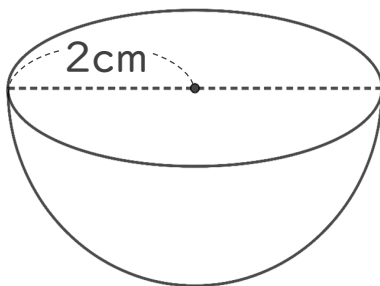
③ 直径は何cmですか。



$$\text{式： } 9 \times 2 = 18$$

答え： 18 cm

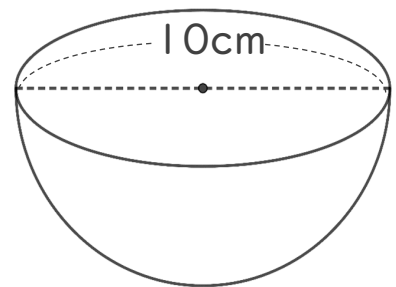
② 直径は何cmですか。



$$\text{式： } 2 \times 2 = 4$$

答え： 4 cm

④ 半径は何cmですか。



$$\text{式： } 10 \div 2 = 5$$

答え： 5 cm