



分数 8

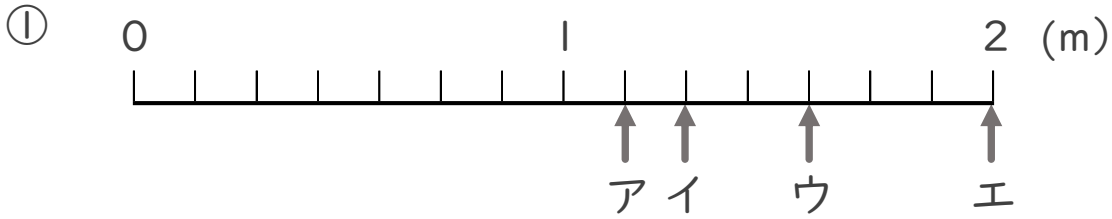
● 1より大きい分数を
数直線に表す



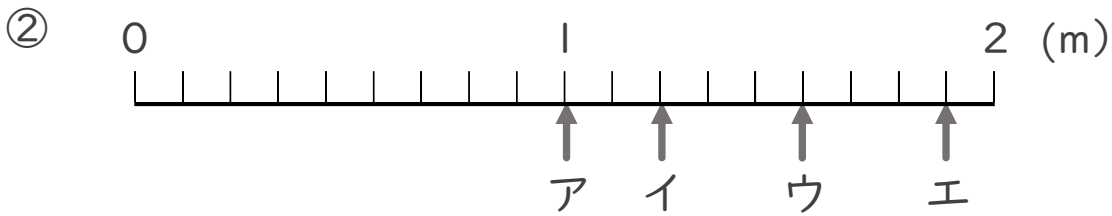
日にち： 月 日

名まえ _____

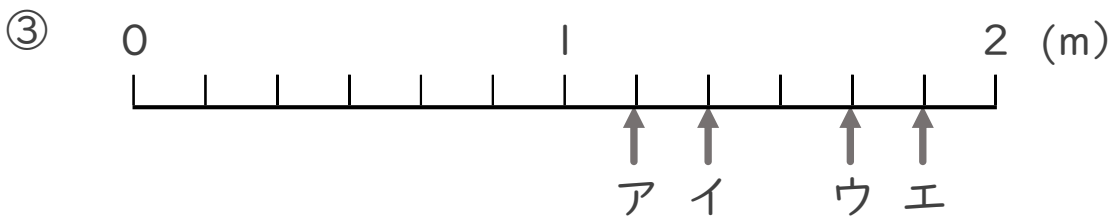
・ ア～エのめもりが表す長さは、それぞれ何mですか。



答え ア _____ m イ _____ m ウ _____ m エ _____ m



答え ア _____ m イ _____ m ウ _____ m エ _____ m



答え ア _____ m イ _____ m ウ _____ m エ _____ m



分数 8

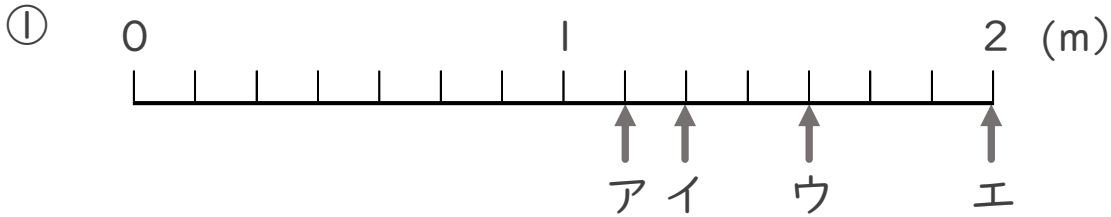
● 1より大きい分数を
数直線に表す



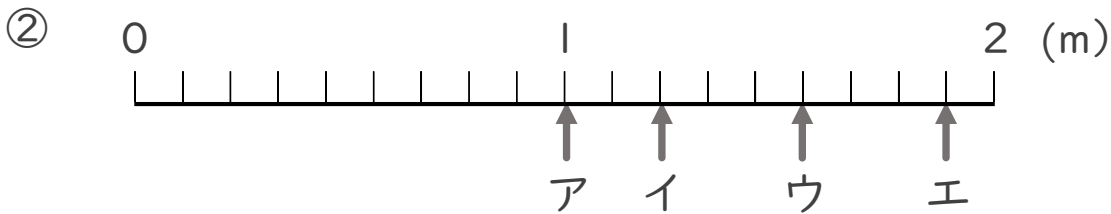
日にち： 月 日

名まえ _____

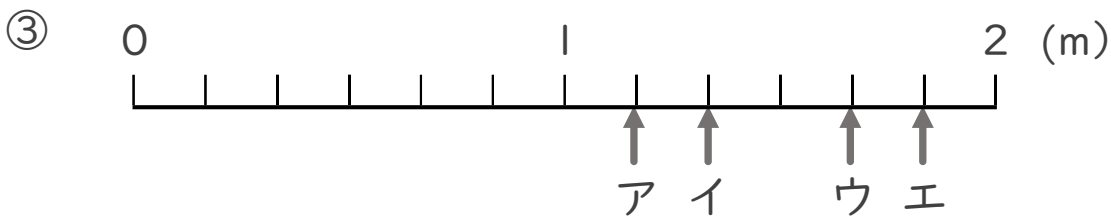
・ ア～エのめもりが表す長さは、それぞれ何mですか。



答え ア $\frac{8}{7}$ m イ $\frac{9}{7}$ m ウ $\frac{11}{7}$ m エ 2 m



答え ア 1 m イ $\frac{11}{9}$ m ウ $\frac{14}{9}$ m エ $\frac{17}{9}$ m



答え ア $\frac{7}{6}$ m イ $\frac{8}{6}$ m ウ $\frac{10}{6}$ m エ $\frac{11}{6}$ m