



分数 7

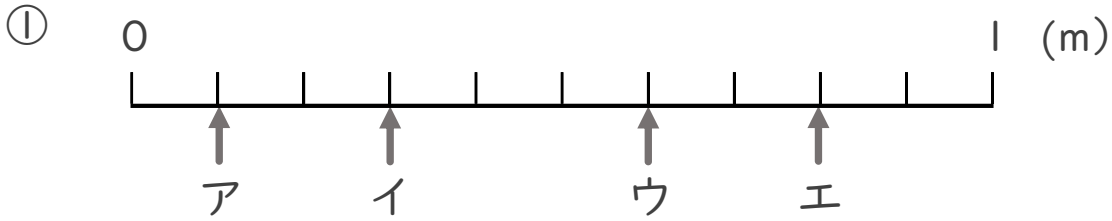
● 1より小さい分数を
数直線に表す



日にち： 月 日

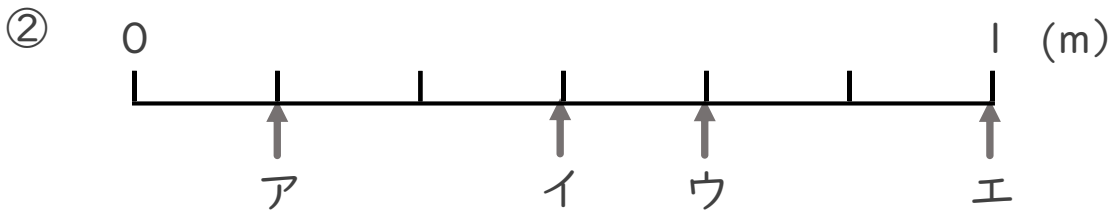
名まえ _____

・ ア～エのめもりりが表す長さは、それぞれ何mですか。



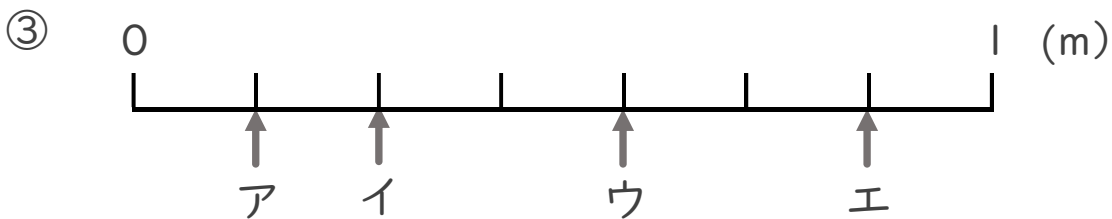
答え ア イ ウ エ

 _____ m _____ m _____ m _____ m



答え ア イ ウ エ

 _____ m _____ m _____ m _____ m



答え ア イ ウ エ

 _____ m _____ m _____ m _____ m



分数 7

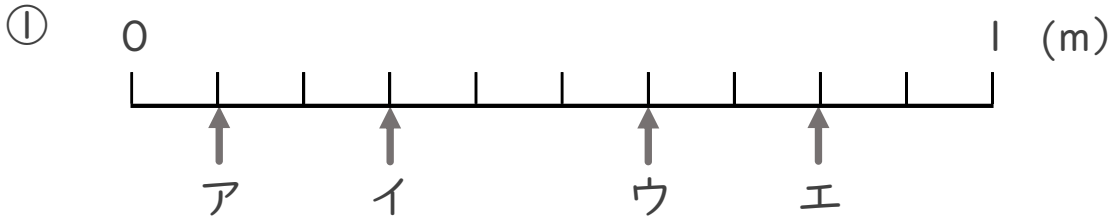
● 1より小さい分数を
数直線に表す



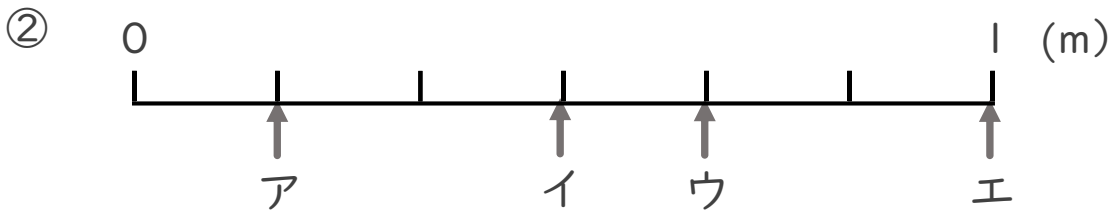
日にち： 月 日

名まえ _____

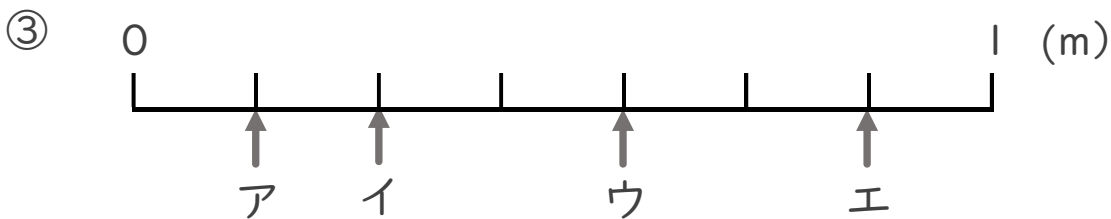
・ ア～エのめもりりが表す長さは、それぞれ何mですか。



答え ア $\frac{1}{10}$ m イ $\frac{3}{10}$ m ウ $\frac{6}{10}$ m エ $\frac{8}{10}$ m



答え ア $\frac{1}{6}$ m イ $\frac{3}{6}$ m ウ $\frac{4}{6}$ m エ 1 m



答え ア $\frac{1}{7}$ m イ $\frac{2}{7}$ m ウ $\frac{4}{7}$ m エ $\frac{6}{7}$ m