



時とくとき間の  
もとめかた 13



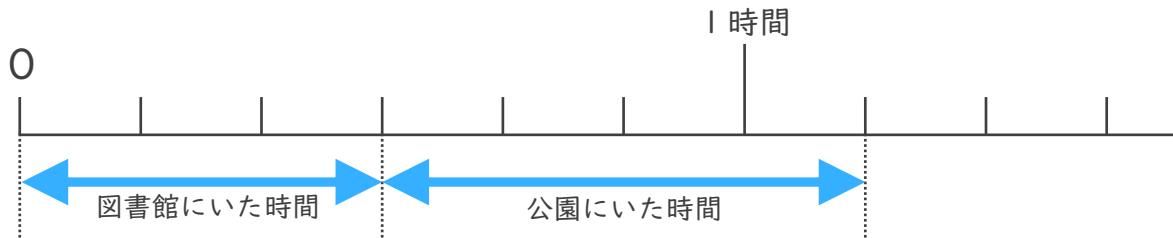
○分+△分 (時間の和)

日にち： 月 日

名まえ \_\_\_\_\_

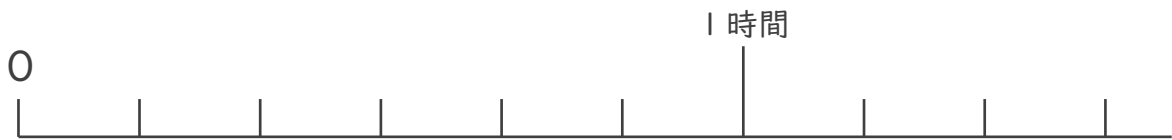
・ 次の問いに答えましょう。

- ① 図書館にいた時間は30分、公園にいた時間は40分です。あわせて何時間何分ですか。



答え ( )

- ② 商店がいしょうてんにいた時間は30分、本屋ほんやにいた時間は50分です。あわせて何時間何分ですか。



答え ( )

- ③ 図書館にいた時間は40分、病院びょういんにいた時間は50分です。あわせて何時間何分ですか。



答え ( )



時と時間の  
もとめかた 13



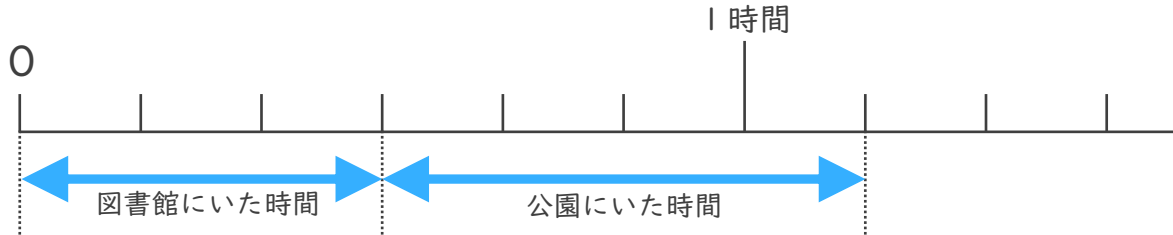
○分+△分 (時間の和)

日にち： 月 日

名まえ \_\_\_\_\_

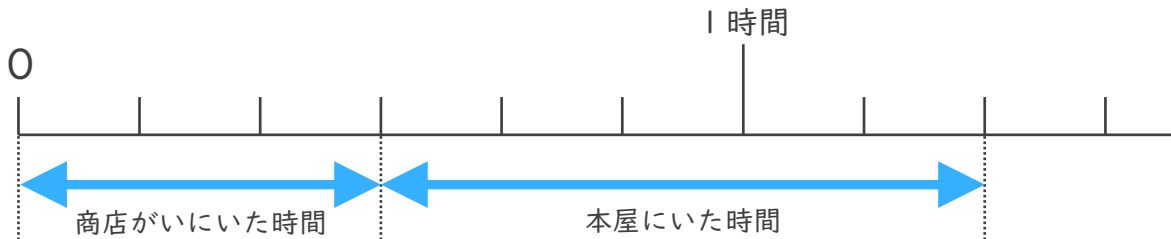
・ 次の問いに答えましょう。

- ① 図書館にいた時間は30分、公園にいた時間は40分です。あわせて何時間何分ですか。



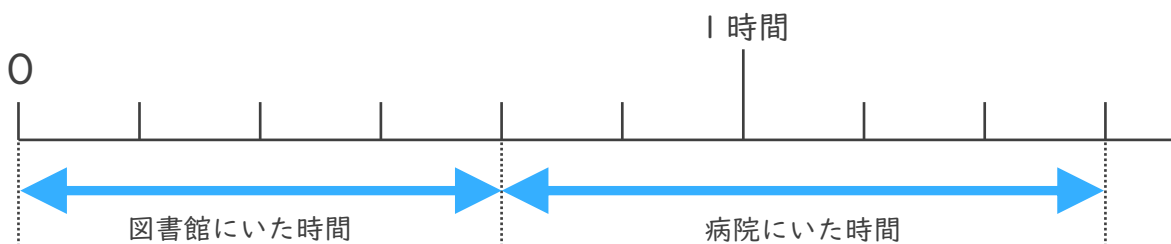
答え ( 1 時間 1 0 分 )

- ② 商店がいりにいた時間は30分、本屋にいた時間は50分です。あわせて何時間何分ですか。



答え ( 1 時間 2 0 分 )

- ③ 図書館にいた時間は40分、病院にいた時間は50分です。あわせて何時間何分ですか。



答え ( 1 時間 3 0 分 )

