



ぼうグラフと表5

● ぼうグラフの
1めもりの大きさ

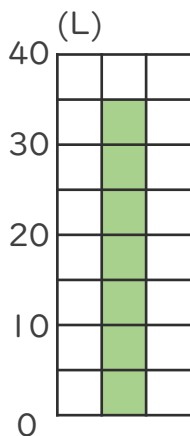


日にち： 月 日

名まえ _____

・ 次のぼうグラフで、1めもりが表している大きさと、
ぼうが表している大きさをもとめましょう。

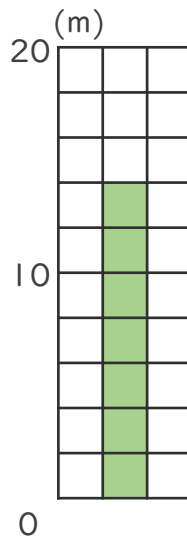
①



1めもり [5L]

グラフ [35L]

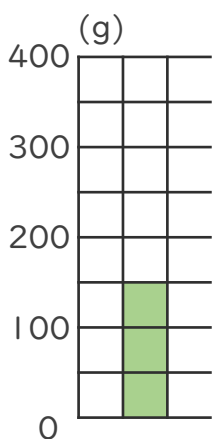
③



1めもり [2m]

グラフ [14m]

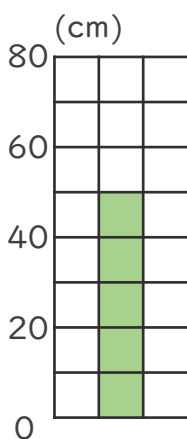
②



1めもり [50 g]

グラフ [150 g]

④



1めもり [10cm]

グラフ [50cm]

