



長いものの長さの はかり方と表し方 2

● まきじゃくへの書きこみ



日にち： 月 日

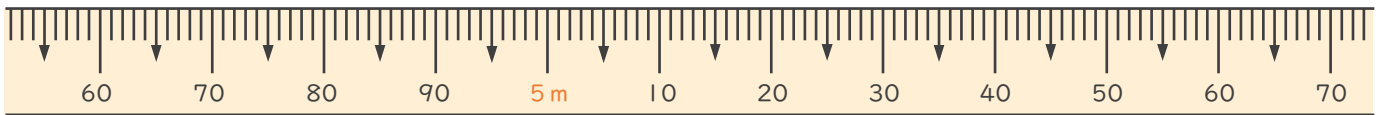
名まえ _____

1 次のまきじゃくで、①～③の長さながを表すあらわメモりに ↓ をかきましょう。

① 4 m 7 3 c m

② 4 m 9 5 c m

③ 5 m 5 0 c m

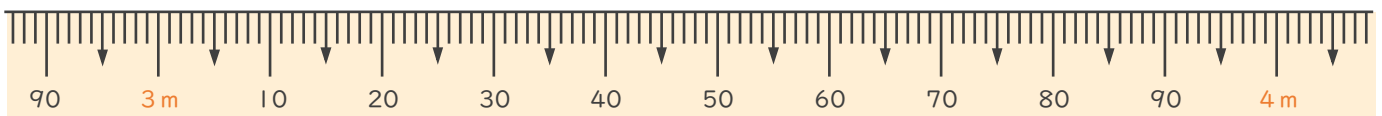


2 次のまきじゃくで、①～③の長さながを表すあらわメモりに ↓ をかきましょう。

① 2 m 9 5 c m

② 3 m 4 7 c m

③ 4 m 3 c m





長いものの長さの はかり方と表し方 2

● まきじゃくへの書きこみ



日にち： 月 日

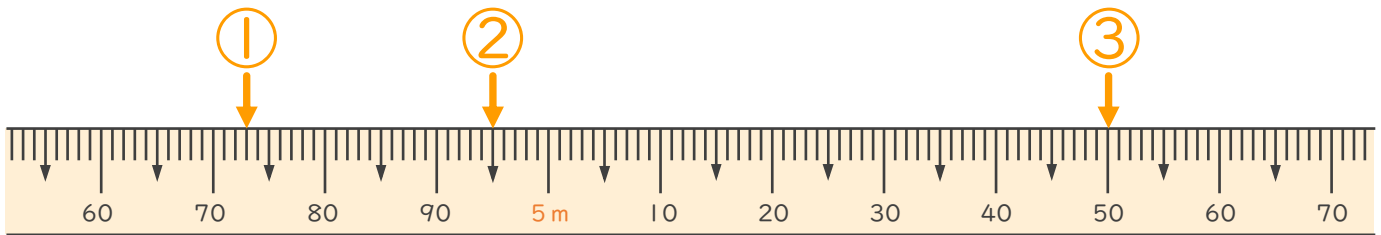
名まえ _____

1 次のまきじゃくで、①～③の長さ^{なが}を表す^{あらわ}メモりに ↓ をかきましょう。

① 4 m 7 3 c m

② 4 m 9 5 c m

③ 5 m 5 0 c m



2 次のまきじゃくで、①～③の長さ^{なが}を表す^{あらわ}メモりに ↓ をかきましょう。

① 2 m 9 5 c m

② 3 m 4 7 c m

③ 4 m 3 c m

