



重さのたんいと
はかりかた 5

● グラムのはかりの
読み取り練習

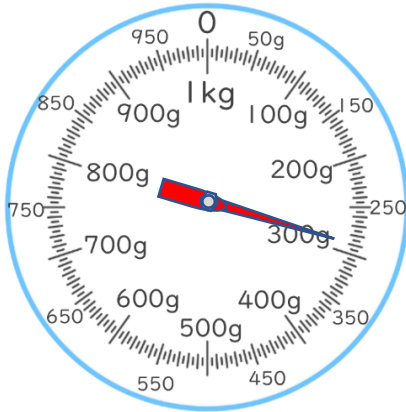


日にち： 月 日

名まえ

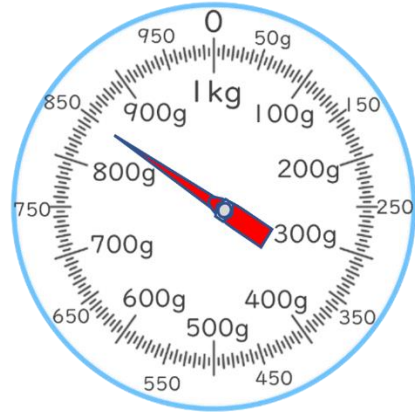
・ はりのさしている重さを書きましょう。

①



答え：

②



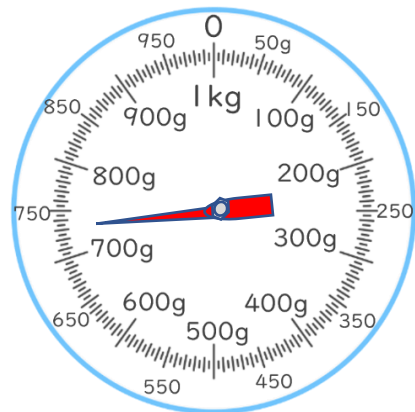
答え：

③



答え：

④



答え：



重さのたんいと
はかりかた 5

● グラムのはかりの
読み取り練習

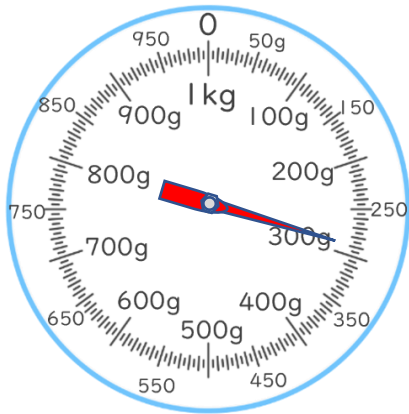


日にち： 月 日

名まえ

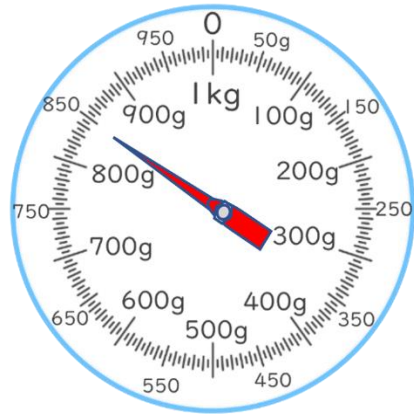
・ はりのさしている重さを書きましょう。

①




答え： 290 g

②



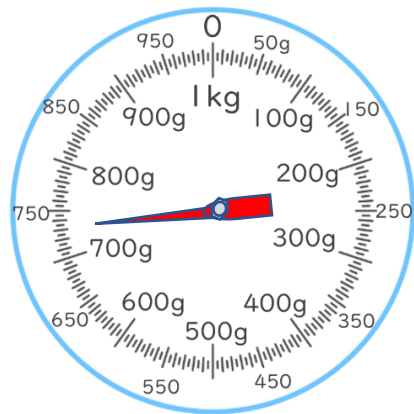
答え： 850 g

③



答え： 180 g

④



答え： 730 g