



円と球 7

コンパスで長さ比べ

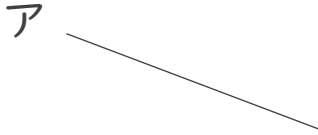


日にち： 月 日

名まえ _____

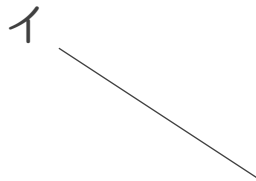
・ 次の直線の長さをくらべ、長いじゆんに答えましょう。

①



答え： → →

②



答え： → →



円と球 7

コンパスで長さ比べ

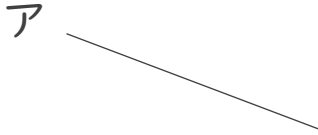


日にち： 月 日

名まえ _____

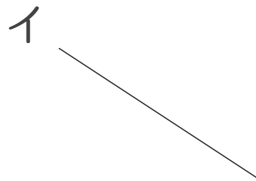
・ 次の直線の長さをくらべ、長いじゆんに答えましょう。

①



答え： ア → ウ → イ

②



答え： イ → ア → ウ

