



三角形と角 9

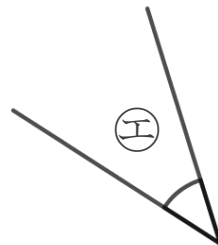
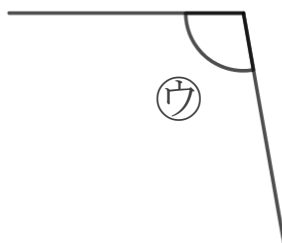

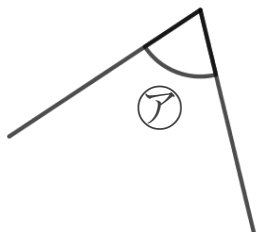
◎ 三角定規の角



日にち： 月 日

名まえ _____

1 次の角を見つけて、㉠～㉤で答えましょう。



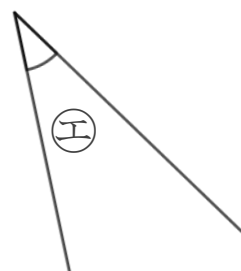
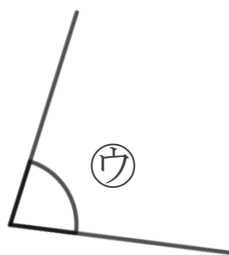
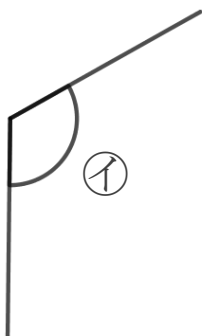
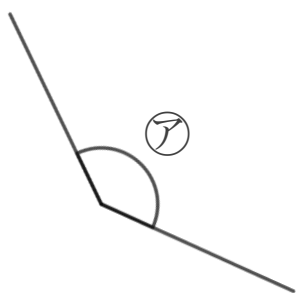
① いちばん大きい角

答え： _____

② いちばん小さい角

答え： _____

2 次の角を見つけて、㉠～㉤で答えましょう。



① いちばん大きい角

答え： _____

② いちばん小さい角

答え： _____





三角形と角 9

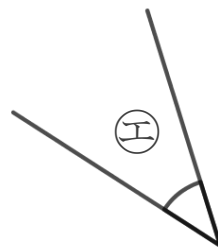
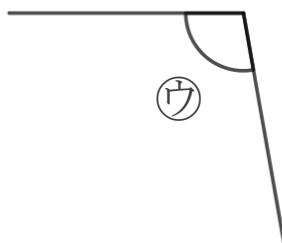

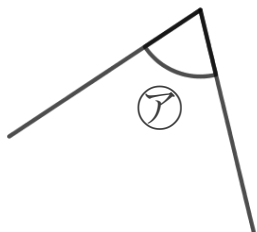
◎ 三角定規の角



日にち： 月 日

名まえ _____

1 次の角を見つけて、㉠～㉤で答えましょう。



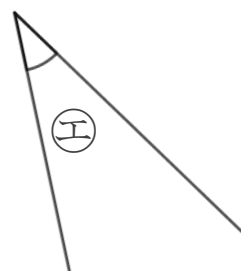
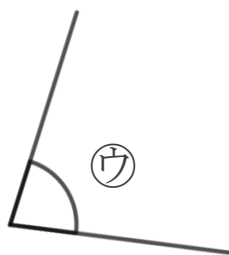
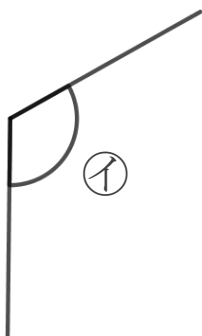
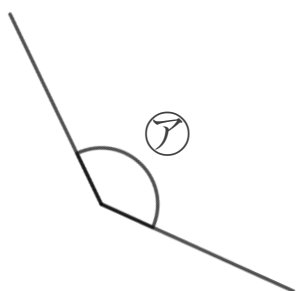
① いちばん大きい角

答え： ㉠

② いちばん小さい角

答え： ㉡

2 次の角を見つけて、㉦～㉨で答えましょう。



① いちばん大きい角

答え： ㉦

② いちばん小さい角

答え： ㉨

