



## 倍の計算 2

◎ 何倍かをもとめよう

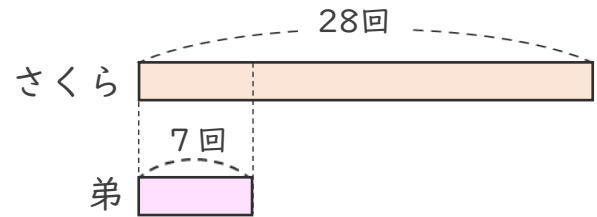


日にち：            月            日

名まえ \_\_\_\_\_

- 1 さくらさんは、色紙を12まい持っています。  
さくらさんの弟は、3まい持っています。  
さくらさんは弟の何倍持っていますか。

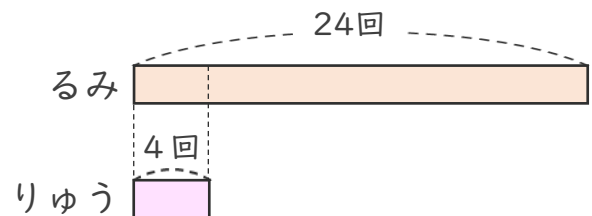
式：



答え： \_\_\_\_\_

- 2 大なわとびで るみさんのはんは24回、  
りゅうさんのはんは4回とびました。  
るみさんのはんは、りゅうさんのはんの何倍とびましたか。

式：



答え： \_\_\_\_\_



## 倍の計算 2

◎ 何倍かをもとめよう

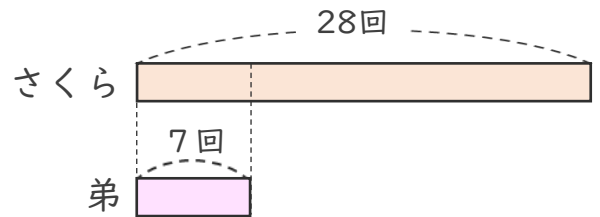


日にち：            月            日

名まえ \_\_\_\_\_

- 1 さくらさんは、色紙を12まい持っています。  
さくらさんの弟は、3まい持っています。  
さくらさんは弟の何倍持っていますか。

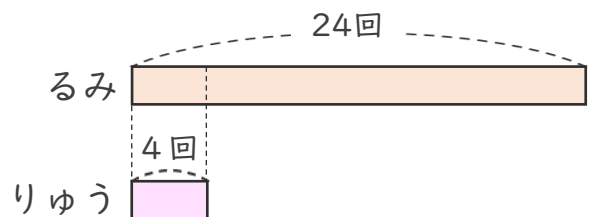
式： $12 \div 3 = 4$



答え：        4        倍

- 2 大なわとびで るみさんのはんは24回、  
りゅうさんのはんは4回とびました。  
るみさんのはんは、りゅうさんのはんの何倍とびましたか。

式： $24 \div 4 = 6$



答え：        6        倍

