



# 円と球 3

● 円の中の一番長い線（直径）

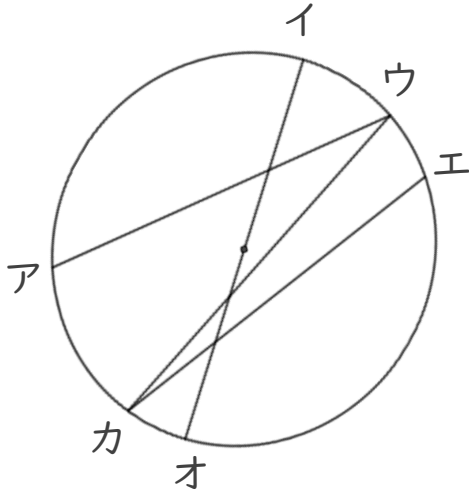


日にち：      月      日

名まえ \_\_\_\_\_

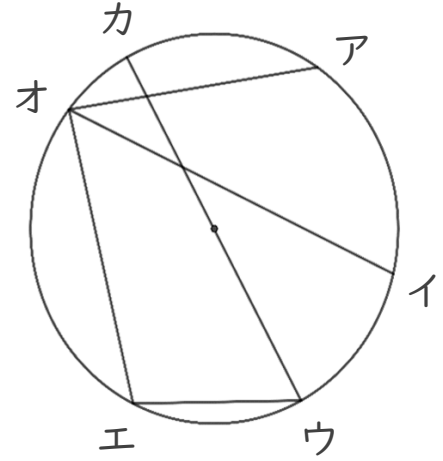
・ 次の円の中にひいた直線で一番長い直線はどれですか。

①



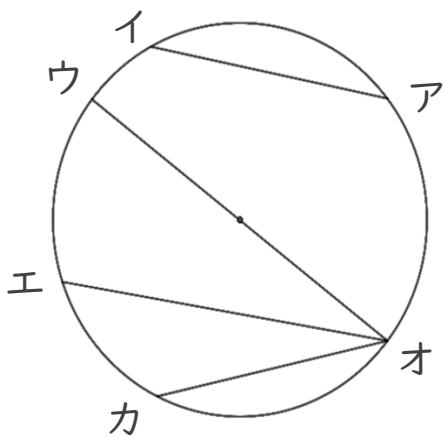
答え： \_\_\_\_\_

③



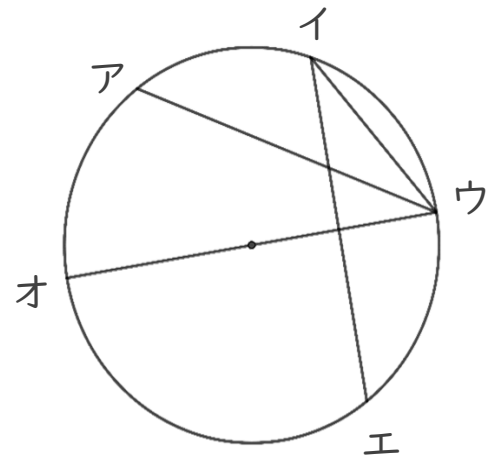
答え： \_\_\_\_\_

②



答え： \_\_\_\_\_

④



答え： \_\_\_\_\_



# 円と球 3

● 円の中の一番長い線（直径）

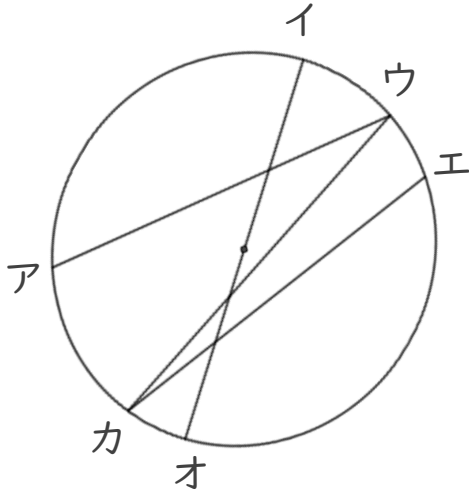


日にち： 月 日

名まえ \_\_\_\_\_

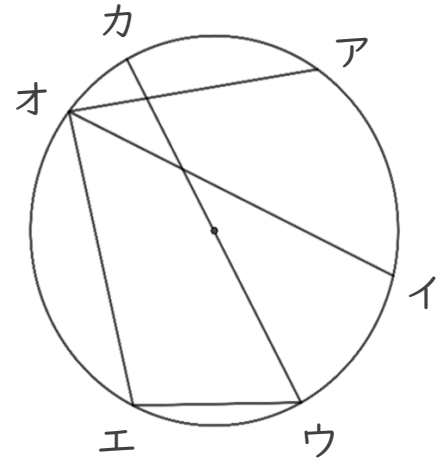
・ 次の円の中にひいた直線で一番長い直線はどれですか。

①



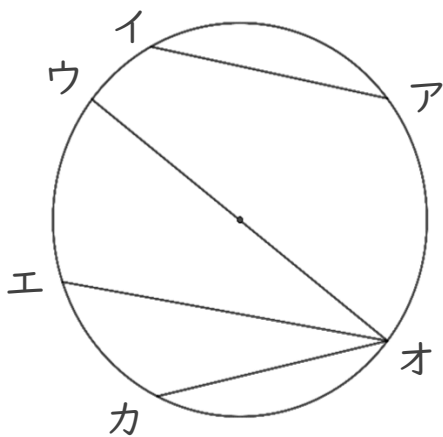
答え： 直線 オイ

③



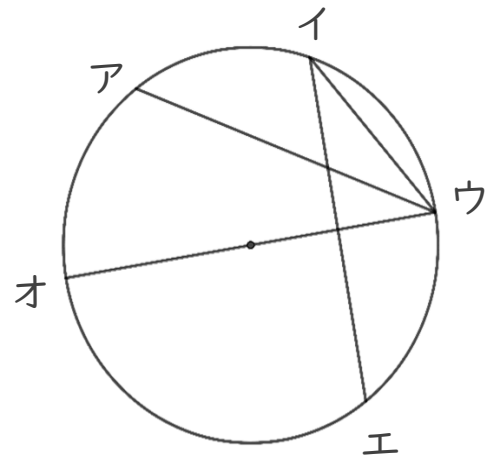
答え： 直線 カウ

②



答え： 直線 ウオ

④



答え： 直線 ウオ