



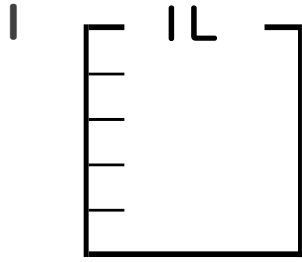
分数 5

● 分数の水のかさの色ぬり



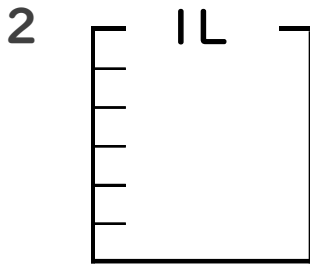
日にち： 月 日

名まえ _____



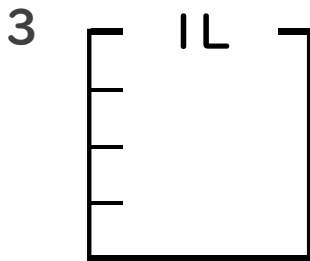
① $\frac{1}{5}$ Lの 3 こ分だけ色をぬりましょう。

② 色をぬったところのかさは何Lですか。 _____ L



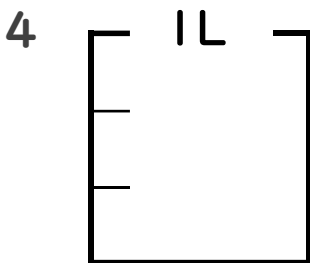
① $\frac{1}{6}$ Lの 1 こ分だけ色をぬりましょう。

② 色をぬったところのかさは何Lですか。 _____ L



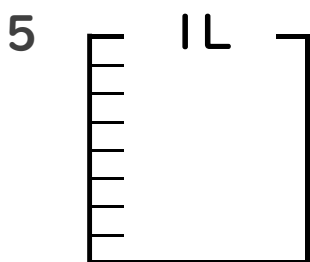
① $\frac{1}{4}$ Lの 2 こ分だけ色をぬりましょう。

② 色をぬったところのかさは何Lですか。 _____ L



① $\frac{1}{3}$ Lの 2 こ分だけ色をぬりましょう。

② 色をぬったところのかさは何Lですか。 _____ L



① $\frac{1}{8}$ Lの 6 こ分だけ色をぬりましょう。

② 色をぬったところのかさは何Lですか。 _____ L





分数 5

◎ 分数の水のかさの色ぬり



日にち： 月 日

名まえ _____



① $\frac{1}{5}$ Lの 3 こ分だけ色をぬりましょう。

② 色をぬったところのかさは何Lですか。

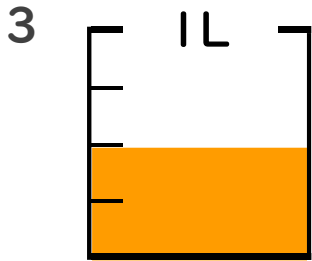
$\frac{3}{5}$ L



① $\frac{1}{6}$ Lの 1 こ分だけ色をぬりましょう。

② 色をぬったところのかさは何Lですか。

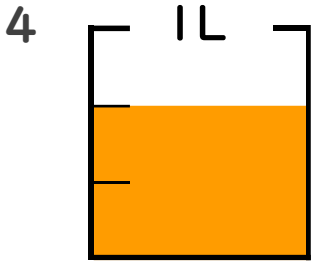
$\frac{5}{6}$ L



① $\frac{1}{4}$ Lの 2 こ分だけ色をぬりましょう。

② 色をぬったところのかさは何Lですか。

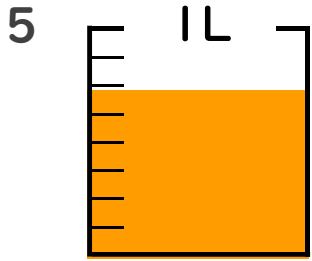
$\frac{2}{4}$ L



① $\frac{1}{3}$ Lの 2 こ分だけ色をぬりましょう。

② 色をぬったところのかさは何Lですか。

$\frac{2}{3}$ L



① $\frac{1}{8}$ Lの 6 こ分だけ色をぬりましょう。

② 色をぬったところのかさは何Lですか。

$\frac{6}{8}$ L

